

专题 02 经济与社会

考点01

坚持公有制主体

1. (2024 静安一模)(多选) 党中央明确指出, 要继续深化国企改革, 当务之急是突破改革的诸多难点问题。深化国企改革有助于()

- A. 发展壮大国有经济
- B. 促进国有企业回避市场竞争
- C. 增强国有企业活力
- D. 促进做强做优做大国有资本

2. (2024 闵行一模) C919 大型客机圆满完成首次商业飞行, 深远海浮式风电平台“海油观澜号”成功并网, 面向新能源汽车行业的高等级无取向硅钢专业生产线建成投产……近年来, 国资央企集中力量加快布局和发展战略性新兴产业, 创新成果不断涌现, 一批新的增长引擎加速培育。这说明在国民经济发展中, 国有企业()

- A. 发挥产业引领作用
- B. 是市场主体
- C. 处于基础地位

考点02

多种所有制共同发展

1. (2024 静安一模)(多选) 近年来, 民营经济占全国 GDP 的比重由不到 50% 升至 60% 以上, 在稳增长、促创新、保就业等方面发挥了重要作用。这表明, 民营经济快速成长()

- A. 其增长速度已超越了现阶段实际国情
- B. 将势必会削弱国有经济的控制力
- C. 已成为推动经济社会发展的重要力量
- D. 在民生改善方面发挥了重要作用

2. (2024 静安一模) 依法保护民营企业产权和企业家权益。防止和纠正利用行政或刑事手段干预经济纠纷, 以及执法司法中的地方保护主义。对材料主旨概括最准确的是()

- A. 毫不动摇地巩固和发展多种所有制经济
- B. 依法规范民营资本健康发展
- C. 各种所有制经济应该具有同等竞争能力
- D. 强化民营经济发展法治保障

3. (2024 静安一模)(多选) 政府在市场开拓组织化、贸易物流便利化、贸易平台创新和扩大出口退税品类等方面, 帮助企业攻坚克难; 进一步加大对外贸企业的资金支持, 比如加大对进出口信贷支持; 鼓励民营企业加大科技研发投入, 提升产品技术含量和附加值, 推动传统产业转型升级, 培育新兴产业和新业态, 为民营企业拓展新的市场空间。这将有助于()

- A. 进一步推动民营企业参与外贸发展
- B. 提升民营企业在外贸市场中的竞争力
- C. 使民营资产在社会总资产中占优势
- D. 更好地促进外贸增长潜力的持续释放

4. (2024 杨浦一模)(多选) 李祖村持续推进本村的环境美化, 良好的生态环境引来了“金凤凰”, 目前已引进各类创业主体 52 家, 既有创业的老村民, 也有青年归乡人。丰富业态成为青年创客“展现才华的用武之地”, 也带动了乡村发展, 让全村人均可支配收入增加到 5.2 万元。由此可见()

- A. 发展壮大农村集体经济有助于民生的改善

- B. 建设现代市场体系才能实现资源优化配置
- C. 非公有制经济成为改善民生的重要力量
- D. 公共服务的优化促进了共同富裕的实现

考点03

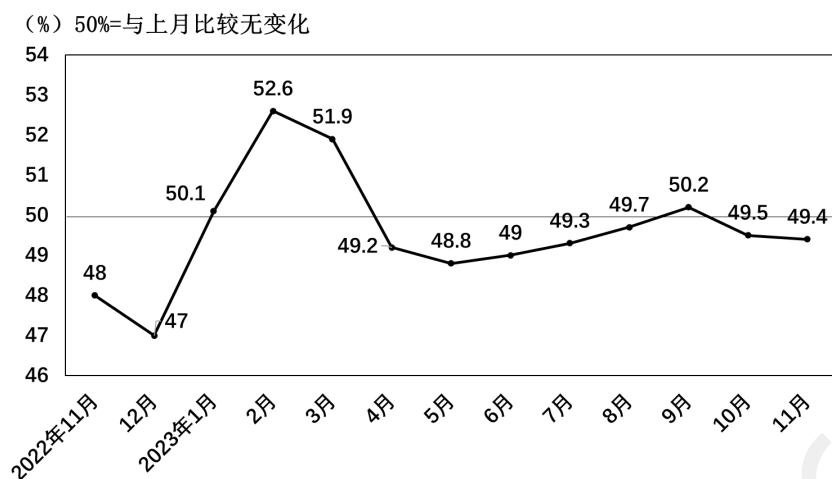
市场调节

1. （2024 黄浦一模）（多选）中央经济工作会议指出，着力扩大国内需求。推动消费从疫后恢复转向持续扩大，培育壮大新型消费，大力发展数字消费、绿色消费、健康消费，积极培育智能家居、文娱旅游、体育赛事、国货“潮品”等新的消费增长点。下列措施对培育新的消费增长点推导正确的是（ ）
 - A. 免征新能源汽车购置税→新能源汽车价格下降→消费者购车成本降低→新能源汽车销量增加
 - B. 推动绿色低碳消费→转变消费观念→推动绿色产业发展→提高相关企业的竞争力
 - C. 发展数字新技术→培育新模式新场景新业态→推进商务智能化便利化→助力释放消费潜力
 - D. 发展农村电子商务→拓宽特色农产品销售渠道→带动农民增收致富→增强农村消费能力
2. （2024 徐汇一模）会议提出：要激发有潜能的消费，扩大有效益的投资，这意味着中央放眼长远，兼顾提升市场经济运行效率，力争实现（ ）
 - A. 内外需增长的持续性
 - B. 投资和消费良性循环
 - C. 供给侧结构性的改革
3. （2024 奉贤一模）亚运会吉祥物深受人们的喜爱，吸引人们纷至沓来。数据显示，浙江省 28.3%的制造业小微企业出现了新的围绕亚运吉祥物的热销商品与服务商机。产生这些商机，这主要反映了市场_____机制的调节作用。（ ）
 - A. 价格
 - B. 供求
 - C. 竞争

考点04

宏观调控

1. （2024 黄浦一模）采购经理指数是国际上通行的宏观经济监测指标之一。下图为 2022 年 11 月-2023 年 11 月中国采购经理指数运行情况，根据图中信息，当前合理的国家决策是（ ）



注：采购经理指数处于从 0 上升到 50%的区间，表明经济处于收缩减速阶段；处于从 50%上升到 100%的区间，表明经济处于扩张加速阶段；处于从 100%下降到 50%的区间，表明经济处于扩张减速阶段；处于从 50%下降到 0 的区间，表明经济处于收缩加速阶段。

- A. 实施紧缩的货币政策，防止经济过热
- B. 实施扩张的财政政策，减小投资力度
- C. 加大减税降费的力度，增强市场信心
- D. 减少支出，增加储蓄，助力经济发展

2. （2024 黄浦一模）（多选）中央经济工作会议指出，着力扩大国内需求。推动消费从疫后恢复转向持续扩大，培育壮大新型消费，大力发展数字消费、绿色消费、健康消费，积极培育智能家居、文娱旅游、体育赛事、国货“潮品”等新的消费增长点。下列措施对培育新的消费增长点推导正确的是（ ）

- A. 免征新能源汽车购置税→新能源汽车价格下降→消费者购车成本降低→新能源汽车销量增加
- B. 推动绿色低碳消费→转变消费观念→推动绿色产业发展→提高相关企业的竞争力
- C. 发展数字新技术→培育新模式新场景新业态→推进商务智能化便利化→助力释放消费潜力
- D. 发展农村电子商务→拓宽特色农产品销售渠道→带动农民增收致富→增强农村消费能力

3. （2024 浦东一模）（多选）上海正汇聚重量级的艺博会和拍卖会，吸引中外艺术机构及艺术人群争相赴约，文物艺术品进出口总额上百亿元。为了促进文化艺术品市场持续繁荣，上海市可以（ ）

- A. 取消艺术品进出关审批及监管手续
- B. 制定文物艺术品交易的地方性法规
- C. 构建中小学艺术素养教育长效机制
- D. 支持建立文化艺术产业的服务平台

4. （2024 闵行一模）近年来，国务院国资委推动中央企业加快发展战略性新兴产业，国家发改委等部门出台举措支持民营企业参与重大科技攻关，中央全面深化改革委员会审议通过《关于高等学校、科研院所薪酬制度改革试点的意见》……一系列举措同向发力，进一步激发企业创新活力，这说明国家（ ）

- A. 调整生产关系以促进生产力发展
- B. 完善上层建筑巩固经济基础的地位
- C. 科学宏观治理促进资源优化配置

5、（2024 长宁一模）在我国新能源汽车从“0”到“1”的原始创新成果孵化期，企业迫切需要资本支持，但因投资风险高导致融资困难。某省通过产业政策和国有资本投资，撬动社会资本，解决了新能源车企初创期社会资本不愿投、不敢投的问题，由此培育出了一大批高科技新能源汽车企业。该省做法取得成功的主要原因在于（ ）

- A. 增强了国有经济的控制力
- B. 消除了市场调节的局限性
- C. 推动国企混合所有制改革
- D. 推动有效市场和有为政府更好结合

6、（2024 长宁一模）聚焦新能源汽车产业链供应链有序运行，我国创新宏观调控，通过减税降费充分发挥了税收的调控性、导向性和激励性作用，不断突破供给侧堵点，有效维护了我国新能源汽车产业链供应链安全稳定和自主可控。该机制的作用路径是（ ）

- ①实行减税降费
- ②企业创新积极性增强
- ③关键技术完全自主创新
- ④支持小微企业纾困
- ⑤打通大中小企业之间的微循环
- ⑥保障产业链供应链的安全稳定

- A. ①→③→②→⑥ B. ①→④→⑤→⑥ C. ①→④→③→⑥ D. ①→⑤→④→⑥

考点05

贯彻新发展理念

1、（2024 静安一模）目前，上海已累计与五大洲 20 多个国家和地区签订政府间科技合作协议，“一带一路”科技创新行动计划已累计在 23 个国家共建联合实验室 28 个、国际技术转移与孵化服务平台 14 个。材料意在表明（ ）

- A. 上海引进先进技术以持续扩大对外开放
- B. 上海主动融入全球创新网络
- C. 开放使科技在资源配置中起决定性作用
- D. 上海重视以科技研发促合作

2、（2024 浦东一模）（多选）充分发挥科技人才在经济高质量发展中的作用，使他们成为我国科技创新发展的主力军，需要（ ）

- A. 坚持党的全面领导，用党的初心和使命来感召科技人才
- B. 科技人才深入经济、社会发展实践，结合实际开展创新
- C. 依法无限期保护科技人才的发明创造，激发其创新活力
- D. 持续加大基本科研业务经费对青年科技人才的支持力度

3、（2024 杨浦一模）（多选）时任浙江省委书记的习近平同志在广泛深入调查研究基础上，作出了实施“千万工程”的战略决策，提出从全省近四万个村庄中选择一万个左右的行政村进行全面整治，把其中一千个左右的中心村建成全面小康示范村。根据材料，下列选项中，对这一战略决策的制定与实施理解正确的是

()

- A. 这一战略决策的实施有助于提升浙江省广大农民的生活水平
- B. 决策以开展广泛的调研为基础体现了党永葆生机活力的法宝
- C. 示范村经验能被推广的原因在于矛盾的普遍性寓于特殊性中
- D. 决策成功的原因在于处理中央与地方关系时贯彻了民主集中制

4. (2024 杨浦一模)(多选)以“千万工程”为代表,经历二十年的发展,我国的城乡居民收入比从 2003 年的 2.43 缩小到 2022 年的 1.90,这一变化趋势有助于为我国经济()

- A. 提供澎湃的发展动力
- B. 实现城乡之间平衡发展
- C. 创造永续发展的条件
- D. 落实发展为人民的目标

5. (2024 徐汇一模)从经济学角度看,新质生产力代表一种生产力的跃迁,它是科技创新发挥主导作用的生产力。当然,科技创新只有渗透到生产力的诸要素中,才能转化为_____。

- A. 可能的生产力
- B. 现实的生产力
- C. 充分的生产力

6. (2024 崇明一模)(多选)建设中国(上海)自由贸易试验区是党中央、国务院作出的重大决策。十年来,自贸区从“一枝独秀”到“百花齐放”,全国 21 个自贸试验区及海南自由贸易港逐步形成了覆盖东

- A. 顺应了经济全球化的趋势
- B. 提高了我国对外开放的水平
- C. 标志着对外开放进入新阶段
- D. 有利于创造良好的国际环境

7. (2024 虹口一模)自贸试验区以制度型开放为重点,聚焦规则、标准与制度层面的改革,更多使用市场化和法治化手段推进开放。制度型开放意味着要()

- A. 对标国际通行规则,实现制度创新
- B. 更多地关注商品要素的自由化流动
- C. 运用更多的政策措施推动对外开放

8. (2024 青浦一模)(多选)我国各地政府调高最低工资标准的积极作用有()

- A. 完善收入分配机制
- B. 促进经济社会发展
- C. 保卫国家经济安全
- D. 人民共享发展成果

(2024 金山一模)(多选)城市更要有温度,意味着城市发展要()

- A. 满足不同群体多样化需求
- B. 保障困难群众最基本生活
- C. 促进区域经济高速度发展

9. (2024 松江一模)乡村要振兴,产业要兴旺。在福建工作期间,习近平总书记曾三进闽东宁德下党乡,调研指导扶贫工作。30 多年来,下党乡干部群众牢记习近平总书记的嘱托,坚定信心、埋头苦干,依托绿水青山和红色资源,发展茶产业和旅游业,成立茶叶种植合作社,依靠互联网推广定制茶园,修缮古村落,

发展“民宿+农家乐”经济，走出了一条“生态立乡、旅游强乡、兴农富民”的乡村振兴之路。据统计，2022年，下党乡实现旅游综合收入约5000多万元，全乡农民人均可支配收入已超过2万元，较上世纪80年代末增长近百倍。

游客小徐感慨：下党乡贯彻落实习近平新时代中国特色社会主义思想，实现了产业兴旺，乡村振兴。结合材料，综合所学，简要分析说明该观点。

考点06

推动高质量发展

1. （2024 松江一模）（多选）农业兴则国家兴，全面推进乡村振兴是新时代建设农业强国的重要任务。实施乡村振兴战略是（ ）
 - A. 巩固拓展脱贫攻坚成果的必由之路
 - B. 转变我国农业发展方式的唯一途径
 - C. 积极践行中国式现代化的客观要求
 - D. 满足亿万农民美好生活的重大决策
2. （2024 松江一模）（多选）推动乡村全面振兴，关键靠人。下列举措符合这一要求的是（ ）
 - A. 全面深入实施人才强国战略
 - B. 制定农村人才队伍建设规划
 - C. 完善人才服务乡村激励制度
 - D. 优化多元化的农村增收机制
3. （2024 徐汇一模）（多选）某村大力推动茶旅融合，大批创新茶企应运而生，特色红茶锦上添花，茶农们富了，种茶、育茶的信心更加坚定。该村通过茶产业实施乡村振兴的策略是___。
 - A. 弘扬传统文化，为乡村振兴“奠基”
 - B. 发展产业经济，为乡村振兴“造血”
 - C. 创新融合科技，为乡村振兴“赋能”
 - D. 着力打造旅游，为乡村振兴“代言”
4. （2024 崇明一模）（多选）中国进博会“四叶草”内的技术装备展区，过去展商习惯比吨位。最大、最高、最重等关键词，成了必不可少的前缀。如今，这一展区悄然发生变化，聚焦高端、智能、绿色，技术装备展区比拼新优势新动能新身份。从“秀肌肉”到“拼内涵”的这一转变（ ）
 - A. 依靠的是简单的生产要素的叠加
 - B. 有利于我国培育国际竞争新优势
 - C. 有利于展商获得更多的发展机遇

D. 决定“新质生产力”理念的提出

5. （2024 虹口一模）“增”“减”之间，“创”无止境。被称为“头雁”的上海自贸试验区十年间交出漂亮的答卷。

上海自贸区十年建设成效：

“增”	进出口总值从2013年的0.7万亿元增长到2022年的2.1万亿元； 累计新设企业8.4万户，新设外资项目超1.4万个，累计利用外资586亿美元； 累计开立14万个自由贸易账户，跨境收支折合人民币142万亿元。
“减”	市场准入负面清单从2013版190条缩减至今27条； 发放行业综合许可证5000多张，审批时限压减90%； 在全国率先建设国际贸易和外国人来华工作居留审批“单一窗口”。
“创”	首创推出67项创新制度，其中33项向全国复制推广； 国家层面复制推广的302项成果中，近半源自上海首创或同步先行先试。

（1）（多选）结合上海自贸区十年建设成效，其能够做“减”法的原因可能是（ ）

- A. 形成了出口竞争的新优势
- B. 对风险性有初步预估防范
- C. 推进贸易投资自由化便利化
- D. 市场准入的门槛不断提高

（2）（多选）从上海自贸区答卷的“增”“减”“创”中，可以得出的结论有（ ）

- A. 自贸区制度创新，加快转变发展方式
- B. 自贸区推进科技创新，形成技术优势
- C. 自贸区构建安全高效开放型经济体系
- D. 自贸区建设的经验是坚持守正与创新

6. （2024 虹口一模）快递业的迅猛发展为推动我国产业结构转型升级，实现经济高质量发展提供有力支撑。这是因为（ ）

- A. 快递业推进电子商务快速发展，电商销售额迅猛增长
- B. “电商+快递”打通了流通环节，助力统一市场的建设
- C. 快递业深度融合供给与消费两端，推动发展模式转变

D. 产业结构转型升级的动力是联系供给与消费的快递业

7. (2024 嘉定一模) 推动智能建造与建筑工业化协同发展，是新型城市基础设施建设的一项重要内容。

其积极效应将是：实施智能建造→ _____ →在城市信息模型基础平台等领域拓宽智能建造场景应用→助力建设智慧城市()。

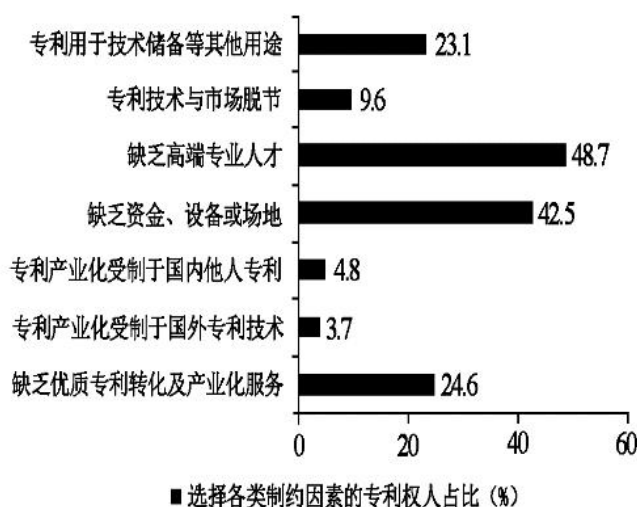
A. 满足人民提升生活质量新期待

B. 推动城市绿色低碳发展新格局

C. 催生一批新产业新业态新模式

D. 顺应城市民主建设工作新形势

8. (2024 金山一模) (多选) 日前，国家知识产权局对全国专利权人开展专利产业化过程中的主要制约因素开展专题调研。调研结果如图所示。根据调研数据，上海要建设国际科创中心，更好服务于全国，重心应放在()



A. 建设服务全国的专利技术交易平台

B. 坚持以国际大循环主体的战略定位

C. 打造资本参与专利成果转化孵化器

D. 建设高端专业人才引进与培养基地

9. (2024 黄浦一模) 中央经济工作会议强调，明年要围绕推动高质量发展，突出重点，把握关键，扎实做好经济工作。以科技创新引领现代化产业体系建设。要以科技创新推动产业创新，特别是以颠覆性技术和前沿技术催生新产业、新模式、新动能，发展新质生产力。

注：新质生产力是现有生产力的跃迁，突破了传统的经济增长方式，不仅意味着以科技创新推动产业创新，更体现了以产业升级构筑新竞争优势、赢得发展的主动权。

结合材料，运用所学内容，谈谈发展新质生产力对推动经济高质量发展的作用。

10. (2024 崇明一模) 在我国，数据资源整合共享和开发利用正加速推动中国式现代化的进程。5G、云计算、大数据、人工智能、区块链等新兴技术与传统产业加快融合，培育诸多新业态新模式；降低要素市场化配置成本，打破创新要素流动壁垒，为欠发达地区的市场主体获取生产要素创造条件；数字技术加快农业设备升级，提高农业精细化管理水平，提升农业生产效率，推动实现农业现代化；把握数字化发展趋势，高标准推进“数字丝绸之路”，广泛链接全球合作伙伴，强化国际竞争优势。

结合材料，运用“推动高质量发展”知识，分析说明数字是如何促进我国经济高质量发展的。

11、（2024 崇明一模）（2）习近平总书记在新时代推动东北全面振兴座谈会上指出，积极培育新能源、新材料、先进制造、电子信息等战略性新兴产业，积极培育未来产业，加快形成新质生产力，增强发展新动能。

请结合材料，从我国经济发展的角度，分析说明如何加快形成新质生产力，实现经济高质量发展。_____

12、（2024 金山一模）在第三届“一带一路”国际合作高峰论坛开幕式上，国家主席习近平宣布中国支持高质量共建“一带一路”的八项行动：

八项行动	具体举措
构建“一带一路”立体互联互通网络	推进中欧班列高质量发展 推进“丝路海运”港航贸一体化发展 ……
支持建设开放型世界经济	全面取消制造业领域外资准入限制措施 深入推进跨境服务贸易和投资高水平开放 ……
开展务实合作	实施 1000 个小型民生援助项目 推进中外职业教育合作 设立人民币融资窗口，丝路基金新增资金 ……
促进绿色发展	持续深化绿色基建、绿色能源、绿色交通等领域合作 ……
推动科技创新	支持各国青年科学家来华短期工作 促进全球人工智能发展 ……
支持民间交往	成立丝绸之路旅游城市联盟 ……
建设廉洁之路	建立“一带一路”企业廉洁合规评价体系 ……
完善“一带一路”国际合作机制	加强能源、税收、金融、绿色发展、减灾、反腐败、智库、媒体、文化等领域的多边合作平台建设 ……

结合材料，综合运用所学，谈谈中国支持高质量共建“一带一路”八项行动对我国高质量发展的意义。

13、（2024 金山一模）2023 年是改革开放 45 周年，作为我国改革开放的前沿阵地和深度链接全球的国

际大都市的上海，要谋划新发展格局，增强内生动力和国际竞争力，加快建成社会主义现代化国际大都市。请结合情境主题，综合所学，分析上海如何谋划新发展格局加快建成社会主义现代化国际大都市。

考点07

个人收入分配

1. （2024 黄浦一模）（多选）中央经济工作会议指出，着力扩大国内需求。推动消费从疫后恢复转向持续扩大，培育壮大新型消费，大力发展数字消费、绿色消费、健康消费，积极培育智能家居、文娱旅游、体育赛事、国货“潮品”等新的消费增长点。下列措施对培育新的消费增长点推导正确的是（ ）

- A. 免征新能源汽车购置税→新能源汽车价格下降→消费者购车成本降低→新能源汽车销量增加
- B. 推动绿色低碳消费→转变消费观念→推动绿色产业发展→提高相关企业的竞争力
- C. 发展数字新技术→培育新模式新场景新业态→推进商务智能化便利化→助力释放消费潜力
- D. 发展农村电子商务→拓宽特色农产品销售渠道→带动农民增收致富→增强农村消费能力

2. （2024 杨浦一模）（多选）李祖村持续推进本村的环境美化，良好的生态环境引来了“金凤凰”，目前已引进各类创业主体 52 家，既有创业的老村民，也有青年归乡人。丰富业态成为青年创客“展现才华的用武之地”，也带动了乡村发展，让全村人均可支配收入增加到 5.2 万元。由此可见（ ）

- A. 发展壮大农村集体经济有助于民生的改善
- B. 建设现代市场体系才能实现资源优化配置
- C. 非公有制经济成为改善民生的重要力量
- D. 公共服务的优化促进了共同富裕的实现

3. （2024 静安一模）人才是创新的根基。闫先生是上海 2023 年引进的数字化领军人才，就职于医疗科技行业，从事质子重离子医疗装备研发。

（1）（多选）2023 年，闫先生获得工资、奖金、津贴共 50 万元；银行存款所得利息 3 万元。当年，闫先生以上收入包括_____

- A. 劳动性收入
- B. 财产性收入
- C. 转移性收入
- D. 经营性收入

4. （2024 青浦一模）劳动者按照最低工资标准获取的收入属于（ ）

- A. 政府财政补贴
- B. 初次分配所得
- C. 社会保障支出

5. （2024 浦东一模）上海市人民政府提出支持和规范发展新就业形态的一系列举措，部分如图所示。

劳动者在提供正常劳动情况下，所得劳动报酬应不低于本市最低工资标准。

引导企业建立劳动报酬合理增长机制，逐步提高劳动报酬水平。

督促企业与劳动者协商，完善订单分配、计件单价、抽成比例等规则。

上述举措主要是从_____（选填“生产力”或“生产关系”）角度改善新就业形态。综合所学内容，

谈谈上述举措有哪些意义。_____

考点08

社会保障

1、（2024 嘉定一模）大数据、云计算、物联网等技术已广泛应用到城市治理中。通过数据平台，政府能及时精准发现困难群众，实现了“人找政策”到“政策找人”的转变。从社会保障制度的角度来看，这项工作属于（ ）。

A. 社会保险

B. 社会救助

C. 社会优抚

D. 社会福利

专题 02 经济与社会

考点01

坚持公有制主体

1. (2024 静安一模) (多选) 党中央明确指出，要继续深化国企改革，当务之急是突破改革的诸多难点问题。深化国企改革有助于()

- A. 发展壮大国有经济
B. 促进国有企业回避市场竞争
C. 增强国有企业活力
D. 促进做强做优做大国有资本

【答案】ACD

【详解】ACD：深化国企改革有助于发展壮大国有经济，增强国有企业活力，促进做强做优做大国有资本，ACD 正确。

B：市场通过价格、供求、竞争来调节资源配置，我国是社会主义市场经济，国有企业不能回避市场竞争，B 错误。

故本题选 ACD。

2. (2024 闵行一模) C919 大型客机圆满完成首次商业飞行，深远海浮式风电平台“海油观澜号”成功并网，面向新能源汽车行业的高等级无取向硅钢专业生产线建成投产……近年来，国资央企集中力量加快布局和发展战略性新兴产业，创新成果不断涌现，一批新的增长引擎加速培育。这说明在国民经济发展中，国有企业()

- A. 发挥产业引领作用
B. 是市场主体
C. 处于基础地位

【答案】A

【解析】A：近年来，国资央企集中力量加快布局和发展战略性新兴产业，创新成果不断涌现，一批新的增长引擎加速培育。这说明在国民经济发展中，国有企业发挥产业引领作用，A 符合题意。

B：在国民经济发展中，企业是市场主体，B 说法不准确。

C：国有企业是中国特色社会主义的重要物质基础和政治基础，但在国民经济发展中，国有企业不处于基础地位，C 排除。

故本题选 A。

考点02

多种所有制共同发展

1. (2024 静安一模) (多选) 近年来，民营经济占全国 GDP 的比重由不到 50%升至 60%以上，在稳增长、促创新、保就业等方面发挥了重要作用。这表明，民营经济快速成长()

- A. 其增长速度已超越了现阶段实际国情
B. 将势必会削弱国有经济的控制力
C. 已成为推动经济社会发展的重要力量
D. 在民生改善方面发挥了重要作用

【答案】CD

【详解】A：材料只是强调民营经济占全国 GDP 比重提升以及民营经济发挥的作用，没有涉及增长速度，

并且增长速度超越现阶段实际国情与现实不符，A 不符合题意。

B：材料只是强调民营经济的作用，不涉及对国有经济的削弱作用，并且我国仍然是国有经济控制国民经济的命脉，在重要行业和关键领域占支配地位，B 错误。

CD：民营经济快速成长说明民营经济已成为推动经济社会发展的重要力量，在民生改善方面发挥了重要作用，CD 符合题意。

故本题选 CD。

2. （2024 静安一模）依法保护民营企业产权和企业家权益。防止和纠正利用行政或刑事手段干预经济纠纷，以及执法司法中的地方保护主义。对材料主旨概括最准确的是()

- A. 毫不动摇地巩固和发展多种所有制经济
- B. 依法规范民营资本健康发展
- C. 各种所有制经济应该具有同等竞争能力
- D. 强化民营经济发展法治保障

【答案】D

【详解】A：毫不动摇地巩固和发展公有制经济，A 错误。

B：材料涉及的是依法保护民营企业产权和企业家权益，而不是规范民营资本健康发展，B 不符合题意。

C：各种所有制经济依法平等使用生产要素，公平参与竞争，不意味着具有同等竞争能力，C 错误。

D：材料强调依法保护民营经济，D 符合题意。

故本题选 D。

3. （2024 静安一模）（多选）政府在市场开拓组织化、贸易物流便利化、贸易平台创新和扩大出口退税品类等方面，帮助企业攻坚克难；进一步加大对外贸企业的资金支持，比如加大对进出口信贷支持；鼓励民营企业加大科技研发投入，提升产品技术含量和附加值，推动传统产业转型升级，培育新兴产业和新业态，为民营企业拓展新的市场空间。这将有助于()

- A. 进一步推动民营企业参与外贸发展
- B. 提升民营企业在外贸市场中的竞争力
- C. 使民营资产在社会总资产中占优势
- D. 更好地促进外贸增长潜力的持续释放

【答案】ABD

【详解】A：材料中政府采取政策帮助企业攻坚克难，加大对外贸企业资金支持，有助于进一步推动民营企业参与外贸发展，A 符合题意。

B：加大对企业的帮助，鼓励其加大科技研发，有助于提升民营企业在外贸市场中的竞争力，B 符合题意。

C：我国公有资产在社会总资产中占优势，C 错误。

D：为民营企业拓展新的市场空间，培育新业态新兴产业等措施有助于更好地促进外贸增长潜力的持续释放，D 符合题意。

故本题选 ABD。

4、（2024 杨浦一模）（多选）李祖村持续推进本村的环境美化，良好的生态环境引来了“金凤凰”，目前已引进各类创业主体 52 家，既有创业的老村民，也有青年归乡人。丰富业态成为青年创客“展现才华的用武之地”，也带动了乡村发展，让全村人均可支配收入增加到 5.2 万元。由此可见()

- A. 发展壮大农村集体经济有助于民生的改善
- B. 建设现代市场体系才能实现资源优化配置
- C. 非公有制经济成为改善民生的重要力量

D.公共服务的优化促进了共同富裕的实现

【答案】CD

【解析】A：发展壮大农村集体经济在材料中没有体现，A 不符合题意。

B：建设现代市场体系有利于实现资源优化配置，计划和市场都是资源配置的一种手段，并不是只有建设现代市场体系才能实现资源优化配置，B 错误。

C：各类创业主体 52 家，既有创业的老村民，也有青年归乡人。丰富业态成为青年创客“展现才华的用武之地”，也带动了乡村发展，让全村人均可支配收入增加到 5.2 万元。由此可见非公有制经济成为改善民生的重要力量，C 正确。

D：李祖村持续推进本村的环境美化，良好的生态环境引来了“金凤凰”，目前已引进各类创业主体 52 家，既有创业的老村民，也有青年归乡人。丰富业态成为青年创客“展现才华的用武之地”，也带动了乡村发展，让全村人均可支配收入增加到 5.2 万元。由此可见公共服务的优化促进了共同富裕的实现，D 正确。

故本题选 CD。

考点03

市场调节

1.（2024 黄浦一模）（多选）中央经济工作会议指出，着力扩大国内需求。推动消费从疫后恢复转向持续扩大，培育壮大新型消费，大力发展数字消费、绿色消费、健康消费，积极培育智能家居、文娱旅游、体育赛事、国货“潮品”等新的消费增长点。下列措施对培育新的消费增长点推导正确的是（ ）

- A. 免征新能源汽车购置税→新能源汽车价格下降→消费者购车成本降低→新能源汽车销量增加
- B. 推动绿色低碳消费→转变消费观念→推动绿色产业发展→提高相关企业的竞争力
- C. 发展数字新技术→培育新模式新场景新业态→推进商务智能化便利化→助力释放消费潜力
- D. 发展农村电子商务→拓宽特色农产品销售渠道→带动农民增收致富→增强农村消费能力

【答案】CD

【详解】

A：免征新能源汽车购置税可以减轻消费者的购车负担，但不能降低新能源汽车价格，A 传导错误。

B：推动绿色产业发与提高相关企业的竞争力无关，B 传导错误。

C：发展数字新技术，可以培育新模式新场景新业态，进而推进商务智能化便利化，从而助力释放消费潜力，C 传导正确。

D：发展农村电子商务，可以拓宽特色农产品销售渠道，进而带动农民增收致富，有利于增强农村消费能力，D 符合题意。

故本题选 CD。

2.（2024 徐汇一模）会议提出：要激发有潜能的消费，扩大有效益的投资，这意味着中央放眼长远，兼顾提升市场经济运行效率，力争实现（ ）

- A. 内外需增长的持续性
- B. 投资和消费良性循环

C. 供给侧结构性改革

【答案】B

【解析】ABC：要激发有潜能消费，扩大有效益投资，这意味着中央放眼长远，兼顾提升市场经济运行效率，材料强调的是投资和消费，因此力争实现投资和消费良性循环，AC 不符合题意，B 符合题意。

故本题选 B。

3、（2024 奉贤一模）亚运会吉祥物深受人们的喜爱，吸引人们纷至沓来。数据显示，浙江省 28.3% 的制造业小微企业出现了新的围绕亚运吉祥物的热销商品与服务商机。产生这些商机，这主要反映了市场_____机制的调节作用。（ ）

A. 价格

B. 供求

C. 竞争

【答案】B

【解析】B：供求机制是调节市场供给与需求矛盾，使之趋于均衡的机制。亚运会吉祥物深受人们的喜爱，吸引人们纷至沓来，人们对亚运会吉祥物需求增加，所以出现了新的围绕亚运吉祥物的热销商品与服务商机，体现了供求机制的调节作用，B 符合题意。

A：价格机制是指价格形成及其变动对生产、消费和供求关系等经济活动的调节和影响的自发过程与形式。材料没有强调价格机制，A 不符合题意。

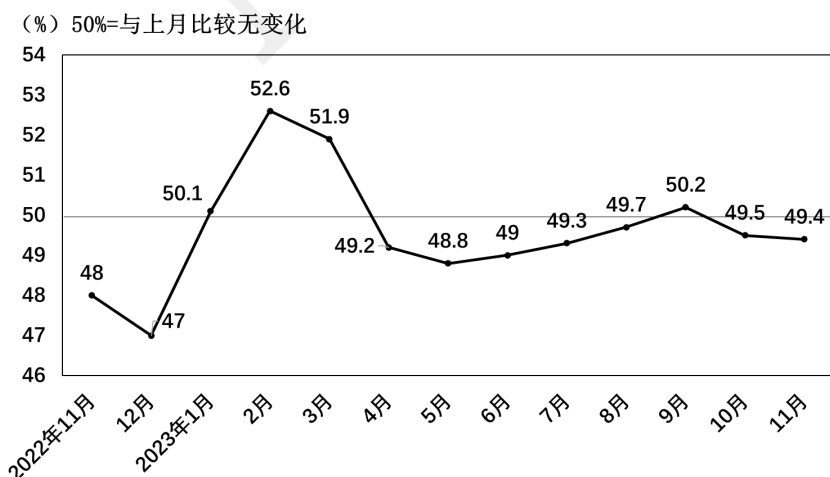
C：竞争机制是指生产者为了将自己的商品销售出去，获取利润或减少亏损，就会在价格、品种、质量、性能、服务和销售等方面展开竞争，以确立自己在市场中的优势地位。消费者之间也会产生竞争。材料没有强调竞争机制起作用，C 不符合题意。

故本题选 B。

考点04

宏观调控

1. （2024 黄浦一模）采购经理指数是国际上通行的宏观经济监测指标之一。下图为 2022 年 11 月-2023 年 11 月中国采购经理指数运行情况，根据图中信息，当前合理的国家决策是（ ）



注：采购经理指数处于从 0 上升到 50% 的区间，表明经济处于收缩减速阶段；处于从 50% 上升到 100% 的区间，表明经济处于扩张加速阶段；处于从 100% 下降到 50% 的区间，表明经济处于扩张减速阶段；处于从 50% 下降到 0 的区间，表明经济处于收缩加速阶段。

- A. 实施紧缩的货币政策，防止经济过热
- B. 实施扩张的财政政策，减小投资力度
- C. 加大减税降费的力度，增强市场信心
- D. 减少支出，增加储蓄，助力经济发展

【答案】 C

【详解】

A：当前经济处于收缩时期，没有过热，不能实施紧缩货币政策，A 排除。

B：当前经济处于收缩时期，实施扩张的财政政策，扩大投资力度，而不是减小投资，B 排除。

C：根据图中信息可知当前经济处于收缩时期，应实施积极的财政政策，，加大减税降费的力度，增强市场信心，C 符合题意。

D：当前经济处于收缩时期，应增加支出，减少储蓄，刺激消费，助力经济发展，D 排除。

故本题选 C。

2. （2024 黄浦一模）（多选）中央经济工作会议指出，着力扩大国内需求。推动消费从疫后恢复转向持续扩大，培育壮大新型消费，大力发展数字消费、绿色消费、健康消费，积极培育智能家居、文娱旅游、体育赛事、国货“潮品”等新的消费增长点。下列措施对培育新的消费增长点推导正确的是（ ）

- A. 免征新能源汽车购置税→新能源汽车价格下降→消费者购车成本降低→新能源汽车销量增加
- B. 推动绿色低碳消费→转变消费观念→推动绿色产业发展→提高相关企业的竞争力
- C. 发展数字新技术→培育新模式新场景新业态→推进商务智能化便利化→助力释放消费潜力
- D. 发展农村电子商务→拓宽特色农产品销售渠道→带动农民增收致富→增强农村消费能力

【答案】 CD

【详解】

A：免征新能源汽车购置税可以减轻消费者的购车负担，但不能降低新能源汽车价格，A 传导错误。

B：推动绿色产业发与提高相关企业的竞争力无关，B 传导错误。

C：发展数字新技术，可以培育新模式新场景新业态，进而推进商务智能化便利化，从而助力释放消费潜力，C 传导正确。

D：发展农村电子商务，可以拓宽特色农产品销售渠道，进而带动农民增收致富，有利于增强农村消费能力，D 符合题意。

故本题选 CD。

3、（2024 浦东一模）（多选）上海正汇聚重量级的艺博会和拍卖会，吸引中外艺术机构及艺术人群争相赴约，文物艺术品进出口总额上百亿元。为了促进文化艺术品市场持续繁荣，上海市可以（ ）

- A. 取消艺术品进出关审批及监管手续
- B. 制定文物艺术品交易的地方性法规
- C. 构建中小学艺术素养教育长效机制

D.支持建立文化艺术产业的服务平台

【答案】BCD

【解析】本题是多选题。

A：文化有先进与落后、健康与腐朽之分，“取消艺术品进出关审批及监管手续”说法错误，A 排除。

BCD：为了促进文化艺术品市场持续繁荣，上海市可以构建中小学艺术素养教育长效机制，制定文物艺术品交易的地方性法规，支持建立文化艺术产业的服务平台，繁荣发展文化产业，BCD 符合题意。

故本题选 BCD。

4、（2024 闵行一模）近年来，国务院国资委推动中央企业加快发展战略性新兴产业，国家发改委等部门出台举措支持民营企业参与重大科技攻关，中央全面深化改革委员会审议通过《关于高等学校、科研院所薪酬制度改革试点的意见》……一系列举措同向发力，进一步激发企业创新活力，这说明国家（ ）

A. 调整生产关系以促进生产力发展

B. 完善上层建筑巩固经济基础的地位

C. 科学宏观治理促进资源优化配置

【答案】AC

【解析】AC：材料中国家在推动中央企业加快发展战略性新兴产业、支持民营企业参与重大科技攻关等方面出台了一系列举措，进一步激发企业创新活力。这说明科学的宏观调控、有效的政府治理有利于促进资源优化配置，通过调整生产关系以促进生产力发展，AC 符合题意。

B：材料中的举措属于调整生产关系以促进生产力发展，不属于完善上层建筑巩固经济基础的地位，B 与题意不符。

故本题选 AC。

5、（2024 长宁一模）在我国新能源汽车从“0”到“1”的原始创新成果孵化期，企业迫切需要资本支持，但因投资风险高导致融资困难。某省通过产业政策和国有资本投资，撬动社会资本，解决了新能源车企初创期社会资本不愿投、不敢投的问题，由此培育出了一大批高科技新能源汽车企业。该省做法取得成功的主要原因在于（ ）

A. 增强了国有经济的控制力

B. 消除了市场调节的局限性

C. 推动国企混合所有制改革

D. 推动有效市场和有为政府更好结合

【答案】D

【解析】A：材料中某省通过产业政策和国有资本投资，撬动社会资本，解决了新能源车企初创期社会资本不愿投、不敢投的问题，没有体现增强了国有经济的控制力，A 说法不符合题意。

B：市场调节的局限性是不能消除的，B 说法错误。

C：混合所有制是公有+非公有。材料中某省通过产业政策和国有资本投资，撬动社会资本，解决了新能源车企初创期社会资本不愿投、不敢投的问题，由此培育出了一大批高科技新能源汽车企业。没有体现国企混合所有制改革，C 说法不符合题意。

D：材料中某省通过产业政策和国有资本投资，撬动社会资本，解决了新能源车企初创期社会资本不愿投、不敢投的问题，由此培育出了一大批高科技新能源汽车企业，体现了推动有效市场和有为政府更好结合，D 说法符合题意。

故本题选择 D。

6、（2024 长宁一模）聚焦新能源汽车产业链供应链有序运行，我国创新宏观调控，通过减税降费充分发挥了税收的调控性、导向性和激励性作用，不断突破供给侧堵点，有效维护了我国新能源汽车产业链供应链安全稳定和自主可控。该机制的作用路径是（ ）

- ①实行减税降费
- ②企业创新积极性增强
- ③关键技术完全自主创新
- ④支持小微企业纾困
- ⑤打通大中小企业之间的微循环
- ⑥保障产业链供应链的安全稳定

B. ①→③→②→⑥ B. ①→④→⑤→⑥ C. ①→④→③→⑥ D. ①→⑤→④→⑥

【答案】B

【解析】①：通过减税降费充分发挥了税收的调控性、导向性和激励性作用，①在首位。

④：减税降费，减轻企业的经济负担，支持小微企业纾困，④在第二位。

⑤：支持小微企业纾困，有利于打通大中小企业之间的微循环，⑤在第三位。

⑥：打通大中小企业之间的微循环，能够保障产业链供应链的安全稳定，⑥在第四位。

②：材料强调通过减税降费充分发挥了税收的调控性、导向性和激励性作用，我国新能源汽车产业链供应链安全稳定和自主可控，推不出企业创新积极性增强，排除②。

③：关键核心技术必须靠自主创新。但完全自主创新的说法错误，排除③。

故本题选择 B。

考点05

贯彻新发展理念

1、（2024 静安一模）目前，上海已累计与五大洲 20 多个国家和地区签订政府间科技合作协议，“一带一路”科技创新行动计划已累计在 23 个国家共建联合实验室 28 个、国际技术转移与孵化服务平台 14 个。材料意在表明（ ）

- A. 上海引进先进技术以持续扩大对外开放
- B. 上海主动融入全球创新网络
- C. 开放使科技在资源配置中起决定性作用
- D. 上海重视以科技研发促合作

【答案】B

【解析】A：材料中是和多个国家进行科技合作，不一定是引进先进技术，A 不符合题意。

B：材料强调上海通过和别国合作融入全球创新网络，B 符合题意。

C：市场在资源配置中起决定作用，C 错误。

D：上海已累计与五大洲 20 多个国家和地区签订政府间科技合作协议，并且涉及建立实验室、国际技术转移、孵化平台等多种方式，D 不符合题意。

故本题选 B。

2. （2024 浦东一模）（多选）充分发挥科技人才在经济高质量发展中的作用，使他们成为我国科技创新发展的主力军，需要（ ）

- A. 坚持党的全面领导，用党的初心和使命来感召科技人才
- B. 科技人才深入经济、社会发展实践，结合实际开展创新
- C. 依法无限期保护科技人才的发明创造，激发其创新活力
- D. 持续加大基本科研业务经费对青年科技人才的支持力度

【答案】ABD

【解析】本题是多项选择题。

ABD：充分发挥科技人才在经济高质量发展中的作用，需要坚持党的全面领导，用党的初心和使命来感召科技人才，持续加大基本科研业务经费对青年科技人才的支持力度，使科技人才能够深入经济、社会发展实践，结合实际开展创新，ABD 符合题意。

C：发明创造包括三类，即发明、实用新型和外观设计。其中发明专利权的保护期限为 20 年，实用新型专利的保护期为 10 年，外观设计专利的保护期为 15 年。“无限期保护”说法错误，C 排除。

故本题选 ABD。

3. （2024 杨浦一模）（多选）时任浙江省委书记的习近平同志在广泛深入调查研究基础上，作出了实施“千万工程”的战略决策，提出从全省近四万个村庄中选择一万个左右的行政村进行全面整治，把其中一千个左右的中心村建成全面小康示范村。根据材料，下列选项中，对这一战略决策的制定与实施理解正确的是（ ）

- A. 这一战略决策的实施有助于提升浙江省广大农民的生活水平
- B. 决策以开展广泛的调研为基础体现了党永葆生机活力的法宝
- C. 示范村经验能被推广的原因在于矛盾的普遍性寓于特殊性中
- D. 决策成功的原因在于处理中央与地方关系时贯彻了民主集中制

【答案】ABC

【解析】A：“千万工程”的战略决策提出从全省近四万个村庄中选择一万个左右的行政村进行全面整治，把其中一千个左右的中心村建成全面小康示范村。这一战略决策的实施有助于提升浙江省广大农民的生活水平，A 正确。

B：时任浙江省委书记的习近平同志在广泛深入调查研究基础上，作出了实施“千万工程”的战略决策，体现出决策以开展广泛的调研为基础体现了党永葆生机活力的法宝，B 正确。

C：实施“千万工程”的战略决策，提出从全省近四万个村庄中选择一万个左右的行政村进行全面整治，把其中一千个左右的中心村建成全面小康示范村。示范村经验能被推广的原因在于矛盾的普遍性寓于特殊性中，C 正确。

D：中央与地方关系贯彻了民主集中制在材料中没有体现，D 不符合题意。

故本题选 ABC。

4. (2024 杨浦一模) (多选) 以“千万工程”为代表，经历二十年的发展，我国的城乡居民收入比从 2003 年的 2.43 缩小到 2022 年的 1.90，这一变化趋势有助于为我国经济 ()

- A. 提供澎湃的发展动力
- B. 实现城乡之间平衡发展
- C. 创造永续发展的条件
- D. 落实发展为人民的目标

【答案】BD

【解析】A：创新发展是解决发展动力问题。创新是引领发展的第一动力，提供澎湃的发展动力，在材料中没有体现，A 不符合题意。

B：我国的城乡居民收入比从 2003 年的 2.43 缩小到 2022 年的 1.90，这一变化趋势有助于为我国经济实现城乡之间平衡发展，增强发展的整体性，B 正确。

C：绿色发展创造永续发展的条件，在材料中没有体现，C 不符合题意。

D：经历二十年的发展，我国的城乡居民收入比从 2003 年的 2.43 缩小到 2022 年的 1.90，这一变化趋势有助于为我国经济落实发展为人民的目标，让广大人民群众共享改革发展成果，D 正确。

故本题选 BD。

5. (2024 徐汇一模) 从经济学角度看，新质生产力代表一种生产力的跃迁，它是科技创新发挥主导作用的生产力。当然，科技创新只有渗透到生产力的诸要素中，才能转化为_____。

- A. 可能的生产力
- B. 现实的生产力
- C. 充分的生产力

【答案】B

【解析】ABC：科技创新只有渗透到生产力的诸要素中，才能转化为现实的生产力，AC 说法错误，B 说法正确。

故本题选 B。

6. (2024 崇明一模) (多选) 建设中国 (上海) 自由贸易试验区是党中央、国务院作出的重大决策。十年来，自贸区从“一枝独秀”到“百花齐放”，全国 21 个自贸试验区及海南自由贸易港逐步形成了覆盖东西南北中、统筹沿海内陆沿边的高水平改革开放创新格局。我国设立自由贸易试验区 ()

- A. 顺应了经济全球化的趋势
- B. 提高了我国对外开放的水平
- C. 标志着对外开放进入新阶段
- D. 有利于创造良好的国际环境

【答案】ABD

【解析】ABD：全国 21 个自贸试验区及海南自由贸易港逐步形成了覆盖东西南北中、统筹沿海内陆沿边的高水平改革开放创新格局。我国设立自由贸易试验区顺应了经济全球化的趋势，提高了我国对外开放的水平，同时有利于创造良好的国际环境，ABD 符合题意。

C：2001 年，我国成功加入世界贸易组织，标志着我国对外开放进入了一个新的阶段，C 不符合题意。

故本题选 ABD。

7. (2024 虹口一模) 自贸试验区以制度型开放为重点，聚焦规则、标准与制度层面的改革，更多使用市

场化和法治化手段推进开放。制度型开放意味着要（ ）

- A. 对标国际通行规则，实现制度创新
- B. 更多地关注商品要素的自由化流动
- C. 运用更多的政策措施推动对外开放

【答案】A

【解析】A：制度型开放意味着要对标国际通行规则，实现制度创新，A 准确。

BC：制度型开放与更多地关注商品要素的自由化流动和运用更多的政策措施推动对外开放无直接关系，BC 不符合题意。

故本题选 A。

8. （2024 青浦一模）（多选）我国各地政府调高最低工资标准的积极作用有（ ）

- A. 完善收入分配机制
- B. 促进经济社会发展
- C. 保卫国家经济安全
- D. 人民共享发展成果

【答案】ABD

【解析】ABD：我国各地政府调高最低工资标准有利于完善收入分配机制，促进经济社会发展，人民共享发展成果，ABD 说法正确。

C：调高最低工资标准与保卫国家经济安全无关，C 不符合题意。

故本题选 ABD。

（2024 金山一模）（多选）城市更要有温度，意味着城市发展要（ ）

- A. 满足不同群体多样化需求
- B. 保障困难群众最基本生活
- C. 促进区域经济高速度发展

【答案】AB

【解析】AB：城市更要有温度，要践行人民城市的理念，意味着城市发展要满足不同群体多样化需求，同时要保障困难群众最基本生活，AB 符合题意。

C：促进区域经济高质量发展，C 说法错误。

故本题选 AB。

9. （2024 松江一模）乡村要振兴，产业要兴旺。在福建工作期间，习近平总书记曾三进闽东宁德下党乡，调研指导扶贫工作。30 多年来，下党乡干部群众牢记习近平总书记的嘱托，坚定信心、埋头苦干，依托绿水青山和红色资源，发展茶产业和旅游业，成立茶叶种植合作社，依靠互联网推广定制茶园，修缮古村落，发展“民宿+农家乐”经济，走出了一条“生态立乡、旅游强乡、兴农富民”的乡村振兴之路。据统计，2022 年，下党乡实现旅游综合收入约 5000 多万元，全乡农民人均可支配收入已超过 2 万元，较上世纪 80 年代末增长近百倍。

游客小徐感慨：下党乡贯彻落实习近平新时代中国特色社会主义思想，实现了产业兴旺，乡村振兴。结合材料，综合所学，简要分析说明该观点。

【答案】下党乡在乡村振兴中始终坚持以习近平新时代中国特色社会主义思想为行动指南，牢记嘱托，牢固树立“绿水青山就是金山银山”理念，坚持人与自然和谐共生，实行生态立乡，实现绿色发展，走出一条乡村振兴之路；坚持以人民为中心的发展思想，贯彻创新、绿色、共享等新发展理念，坚持在发展中保障和改善民生，兴农富民，发展乡村旅游，振兴乡村产业，推动乡村振兴。

【解析】第一步：审设问。明确主体、知识范围、问题限定和作答角度。本题要求简要分析说明游客小徐的观点，要运用教材中相关知识，结合材料信息分析说明。

第二步：审材料。提取关键信息，链接教材知识。

关键信息①：下党乡干部群众牢记习近平总书记的嘱托，坚定信心、埋头苦干，依托绿水青山和红色资源，走出了一条“生态立乡、旅游强乡、兴农富民”的乡村振兴之路→可联系坚持人与自然和谐共生，实行生态立乡，实现绿色发展，走出一条乡村振兴之路。

关键信息②：据统计，2022年，下党乡实现旅游综合收入约5000多万元，全乡农民人均可支配收入已超过2万元，较上世纪80年代末增长近百倍→可联系坚持以人民为中心的发展思想，贯彻创新、绿色、共享等新发展理念。

第三步：整合信息，组织答案。注意教材信息与材料信息相结合。

考点06

推动高质量发展

1. （2024 松江一模）（多选）农业兴则国家兴，全面推进乡村振兴是新时代建设农业强国的重要任务。实施乡村振兴战略是（ ）

- A. 巩固拓展脱贫攻坚成果的必由之路
- B. 转变我国农业发展方式的唯一途径
- C. 积极践行中国式现代化的客观要求
- D. 满足亿万农民美好生活的重大决策

【答案】ACD

【解析】ACD：实施乡村振兴战略是巩固拓展脱贫攻坚成果的必由之路，是积极践行中国式现代化的客观要求，也是满足亿万农民美好生活的重大决策，ACD 正确。

B：实施乡村振兴战略是转变我国农业发展方式，着力解决“三农”问题的重要出路，但不是唯一途径，B 错误。

故本题选 ACD。

2. （2024 松江一模）（多选）推动乡村全面振兴，关键靠人。下列举措符合这一要求的是（ ）

- A. 全面深入实施人才强国战略
- B. 制定农村人才队伍建设规划
- C. 完善人才服务乡村激励制度
- D. 优化多元化的农村增收机制

【答案】ABC

【解析】ABC：全面深入实施人才强国战略、制定农村人才队伍建设规划、完善人才服务乡村激励制度都有利于培养农村人才，助力乡村振兴，ABC 正确。

D：优化多元化的农村增收机制与培养农村人才，推动乡村全面振兴无直接关系，D 排除。

故本题选 ABC。

3、（2024 徐汇一模）（多选）某村大力推动茶旅融合，大批创新茶企应运而生，特色红茶锦上添花，茶农们富了，种茶、育茶的信心更加坚定。该村通过茶产业实施乡村振兴的策略是___。

- A. 弘扬传统文化，为乡村振兴“奠基”
- B. 发展产业经济，为乡村振兴“造血”
- C. 创新融合科技，为乡村振兴“赋能”
- D. 着力打造旅游，为乡村振兴“代言”

【答案】BCD

【解析】A：传统文化有精华也有糟粕，要弘扬优秀传统文化，且经济政治决定文化，文化不能为乡村振兴“奠基”，A 不选。

B：“大力推动茶旅融合，通过茶产业实施乡村振兴”，表明该村发展产业经济，为乡村振兴“造血”，B 符合题意。

C：“大批创新茶企应运而生”，表明该村创新融合科技，为乡村振兴“赋能”，C 符合题意。

D：“大力推动茶旅融合”，表明该村着力打造旅游，为乡村振兴“代言”，D 符合题意。

故本题选 BCD。

4.（2024 崇明一模）（多选）中国进博会“四叶草”内的技术装备展区，过去展商习惯比吨位。最大、最高、最重等关键词，成了必不可少的前缀。如今，这一展区悄然发生变化，聚焦高端、智能、绿色，技术装备展区比拼新优势新动能新身份。从“秀肌肉”到“拼内涵”的这一转变()

- A. 依靠的是简单的生产要素的叠加
- B. 有利于我国培育国际竞争新优势
- C. 有利于展商获得更多的发展机遇
- D. 决定“新质生产力”理念的提出

【答案】BC

【解析】A：如今，这一展区悄然发生变化，聚焦高端、智能、绿色，技术装备展区比拼新优势新动能新身份，依靠的是技术创新，而不是简单的生产要素的叠加，A 不符合题意。

BC：过去展商习惯比吨位。最大、最高、最重等关键词，成了必不可少的前缀。如今，这一展区悄然发生变化，聚焦高端、智能、绿色，技术装备展区比拼新优势新动能新身份。从“秀肌肉”到“拼内涵”的这一转变有利于我国培育国际竞争新优势，有利于展商获得更多的发展机遇，BC 符合题意。

D：“新质生产力”理念的提出决定了从“秀肌肉”到“拼内涵”的这一转变，D 错误。

故本题选 BC。

5.（2024 虹口一模）“增”“减”之间，“创”无止境。被称为“头雁”的上海自贸试验区十年间交出漂亮的答卷。

上海自贸区十年建设成效：

“增”	<p>进出口总值从 2013 年的 0.7 万亿元增长到 2022 年的 2.1 万亿元；</p> <p>累计新设企业 8.4 万户，新设外资项目超 1.4 万个，累计利用外资 586 亿美元；</p> <p>累计开立 14 万个自由贸易账户，跨境收支折合人民币 142 万亿元。</p>
“减”	<p>市场准入负面清单从 2013 版 190 条缩减至今 27 条；</p> <p>发放行业综合许可证 5000 多张，审批时限压减 90%；</p> <p>在全国率先建设国际贸易和外国人来华工作居留审批“单一窗口”。</p>
“创”	<p>首创推出 67 项创新制度，其中 33 项向全国复制推广；</p> <p>国家层面复制推广的 302 项成果中，近半源自上海首创或同步先行先试。</p>

(1) (多选) 结合上海自贸区十年建设成效，其能够做“减”法的原因可能是 ()

- A. 形成了出口竞争的新优势
- B. 对风险性有初步预估防范
- C. 推进贸易投资自由化便利化
- D. 市场准入的门槛不断提高

(2) (多选) 从上海自贸区答卷的“增”“减”“创”中，可以得出的结论有 ()

- A. 自贸区制度创新，加快转变发展方式
- B. 自贸区推进科技创新，形成技术优势
- C. 自贸区构建安全高效开放型经济体系
- D. 自贸区建设的经验是坚持守正与创新

【答案】(1) BC (2) ACD

【解析】(1) A：上海自贸区形成了出口竞争的新优势并不是其做“减法”的原因，A 不符合题意。

B：发放行业综合许可证 5000 多张，审批时限压减 90%，这说明上海自贸区对风险性有初步预估防范，B 符合题意。

C：缩减市场准入负面清单，率先建设国际贸易和外国人来华工作居留审批“单一窗口”，这说明上海自贸区推进贸易投资自由化便利化，C 符合题意。

D：题干是在缩减市场准入负面清单，而不是市场准入的门槛不断提高，D 不选。

故本题选 BC。

(2) A：从上海自贸区答卷的“创”中，可以看出自贸区制度创新，加快转变发展方式，A 符合题意。

B：上海自贸区答卷的“增”“减”“创”中不涉及推进科技创新，形成技术优势，B 不选。

CD：从上海自贸区答卷的“增”“减”中，可以看出自贸区构建安全高效开放型经济体系从上海自贸区答卷的“增”“减”“创”中，可以看出自贸区建设的经验是坚持守正与创新，CD 符合题意。

故本题选 ACD。

6. （2024 虹口一模）快递业的迅猛发展为推动我国产业结构转型升级，实现经济高质量发展提供有力支撑。这是因为（ ）

- A. 快递业推进电子商务快速发展，电商销售额迅猛增长
- B. “电商+快递”打通了流通环节，助力统一市场的建设
- C. 快递业深度融合供给与消费两端，推动发展模式转变
- D. 产业结构转型升级的动力是联系供给与消费的快递业

【答案】C

【解析】AB：快递业推动我国产业结构转型升级，不涉及电商销售额迅猛增长，也不涉及助力统一市场的建设，这两项不涉设问的原因，AB 不选。

C：快递业深度融合供给与消费两端，推动发展模式转变，为推动我国产业结构转型升级，实现经济高质量发展提供有力支撑，C 符合题意。

D：题目设问要求是快递业的迅猛发展推动我国产业结构转型升级的原因，该选项是在重复题干，不是原因，D 不符合题意。

故本题选 C。

7. （2024 嘉定一模）推动智能建造与建筑工业化协同发展，是新型城市基础设施建设的一项重要内容。其积极效应将是：实施智能建造→ _____ →在城市信息模型基础平台等领域拓宽智能建造场景应用→助力建设智慧城市（ ）。

- A. 满足人民提升生活质量新期待
- B. 推动城市绿色低碳发展新格局
- C. 催生一批新产业新业态新模式
- D. 顺应城市民主建设工作新形势

【答案】C

【解析】A：满足人民提升生活质量新期待推不出在城市信息模型基础平台等领域拓宽智能建造场景应用，A 不符合题意。

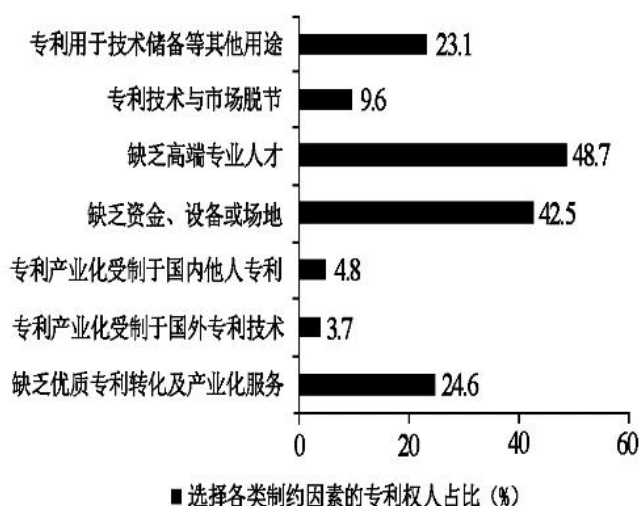
B：材料未涉及绿色低碳发展新格局，B 不符合题意。

C：根据材料中智能建造与建筑工业化的智能建造，催生一批新产业新业态新模式，这些新产业新业态在各大平台应用，助力建设智慧城市，C 符合题意。

D：材料未涉及城市民主建设工作，D 不符合题意。

故本题选 C。

8. （2024 金山一模）（多选）日前，国家知识产权局对全国专利权人开展专利产业化过程中的主要制约因素开展专题调研。调研结果如图所示。根据调研数据，上海要建设国际科创中心，更好服务于全国，重心应放在（ ）



- A. 建设服务全国的专利技术交易平台
- B. 坚持以国际大循环主体的战略定位
- C. 打造资本参与专利成果转化孵化器
- D. 建设高端专业人才引进与培养基地

【答案】CD

【解析】A：制约因素中未涉及专利技术交易平台，A 不符合题意。

B：坚持以国内大循环主体的战略定位，B 说法错误。

C：全国专利权人开展专利产业化过程中的第二制约因素缺乏资金、设备或场地，因此重心应放在打造资本参与专利成果转化孵化器，C 符合题意。

D：全国专利权人开展专利产业化过程中的第一制约因素缺乏高端专业人才，因此重心应该放在建设高端专业人才引进与培养基地，D 符合题意。

故本题选 CD。

9. (2024 黄浦一模) 中央经济工作会议强调，明年要围绕推动高质量发展，突出重点，把握关键，扎实做好经济工作。以科技创新引领现代化产业体系建设。要以科技创新推动产业创新，特别是以颠覆性技术和前沿技术催生新产业、新模式、新动能，发展新质生产力。

注：新质生产力是现有生产力的跃迁，突破了传统的经济增长方式，不仅意味着以科技创新推动产业创新，更体现了以产业升级构筑新竞争优势、赢得发展的主动权。

结合材料，运用所学内容，谈谈发展新质生产力对推动经济高质量发展的作用。

【答案】发展新质生产力，有利于贯彻新发展理念，培育战略新兴产业和未来产业，壮大实体经济，推动产业结构优化升级，建设现代经济体系。

有利于推动供给侧结构性改革，用科技改变生活，更好满足人民日益增长的美好生活需要。

有利于推进高水平对外开放，加快构建新发展格局。

【详解】

第一步：审设问。明确主体、知识范围、问题限定和作答角度。

本题属于意义类主观题，考查的范围不明确，要求谈谈发展新质生产力对推动经济高质量发展的作用，需

要考生结合材料分析调用课本理论。

第二步：审材料。提取关键词，链接教材知识。

关键词①：以科技创新引领现代化产业体系建设，要以科技创新推动产业创新，→可联系教材知识有利于贯彻新发展理念，壮大实体经济，推动产业结构优化升级，建设现代经济体系。

关键词②：以颠覆性技术和前沿技术催生新产业、新模式、新动能→可联系教材知识有利于推动供给侧结构性改革，更好满足人民日益增长的美好生活需要

关键词③：新质生产力体现了以产业升级构筑新竞争优势、赢得发展的主动权→可联系教材知识有利于推进高水平对外开放，加快构建新发展格局。

第三步：整合信息，组织答案。注意设问限定以及教材知识与材料、时政信息等相结合。

10、（2024 崇明一模）在我国，数据资源整合共享和开发利用正加速推动中国式现代化的进程。5G、云计算、大数据、人工智能、区块链等新兴技术与传统产业加快融合，培育诸多新业态新模式；降低要素市场化配置成本，打破创新要素流动壁垒，为欠发达地区的市场主体获取生产要素创造条件；数字技术加快农业设备升级，提高农业精细化管理水平，提升农业生产效率，推动实现农业现代化；把握数字化发展趋势，高标准推进“数字丝绸之路”，广泛链接全球合作伙伴，强化国际竞争优势。

结合材料，运用“推动高质量发展”知识，分析说明数字是如何促进我国经济高质量发展的。

【答案】①数字赋能现代化产业体系。坚持把发展经济的着力点放在实体经济上，通过 5G、大数据、人工智能等新兴数字技术与实体经济相融合（方式：数字与实体经济或传统产业融合发展），促进传统产业转型升级，优化产业结构，培育诸多新业态新模式（效果：产业升级和产业创新，建设制造强国、质量强国等。）。

②数字赋能区域经济协调发展。数字技术能够降低生产要素在不同区域间流通的成本，打破地域限制，为欠发达地区的市场主体获取资源创造更加便利的条件（方式：降低流通成本、破除流动壁垒），从而做到优势互补、减小差距，促进区域协调发展（效果：减小区域差距）。

③数字赋能全面推进乡村振兴。坚持农业农村优先发展，将先进的数字技术运用到农业预测、生产、管理等环节中（方式：数字技术运用到农业），有助于提高农业生产效率，提高农民收入和劳动便利化水平，加快建设农业强国，全面推进乡村振兴（效果：提高生产率和农民收入）。

④数字赋能高水平对外开放。积极顺应经济全球化、数字化趋势，顺应时代发展潮流，借助数字技术跨越时空限制，加强与全球合作伙伴的联系（方式：密切与世界经济的联系）；通过数字赋能产业升级，培育我国出口竞争新优势，发展更高水平的对外经济（效果：产业升级提高出口竞争力，建设贸易强国）。

【解析】第一步：审设问。明确主体、知识范围、问题限定和作答角度。本题的设问要求可转换为数字是如何促进我国经济高质量发展的，注意作答主体为考生，需要调用推动高质量发展的有关知识，从措施角度分析作答。

第二步：审材料。提取关键词，链接教材知识。

关键词①：5G、云计算、大数据、人工智能、区块链等新兴技术与传统产业加快融合，培育诸多新业态新模式→可联系教材知识现代化产业体系；

关键词②：降低要素市场化配置成本，打破创新要素流动壁垒，为欠发达地区的市场主体获取生产要素创

造条件→可联系教材知识区域经济协调发展；

关键词③：数字技术加快农业设备升级，提高农业精细化管理水平，提升农业生产效率，推动实现农业现代化→可联系教材知识全面推进乡村振兴；

关键词④：把握数字化发展趋势，高标准推进“数字丝绸之路”，广泛链接全球合作伙伴，强化国际竞争优势→可联系教材知识高水平对外开放。

第三步：整合信息，组织答案。

11、（2024 崇明一模）（2）习近平总书记在新时代推动东北全面振兴座谈会上指出，积极培育新能源、新材料、先进制造、电子信息等战略性新兴产业，积极培育未来产业，加快形成新质生产力，增强发展新动能。

请结合材料，从我国经济发展的角度，分析说明如何加快形成新质生产力，实现经济高质量发展。_____

【答案】加快形成新质生产力要贯彻新发展理念，加快实施创新驱动发展战略，以科技创新为主导，促进数字技术与实体经济的深度融合，通过科技创新引领生产力变革，从而催生新产业、新商品和新业态，实现经济高质量发展。

加快形成新质生产力，关键在培育形成新产业。要建立创新引领、协同发展的现代化产业体系，转变经济发展方式，推动传统产业转型升级，优化产业结构，要以供给侧结构性改革为主线，做强做优实体经济，推进新型工业化，培育形成战略性新兴产业，塑造经济发展的新优势，实现经济高质量发展。

加快形成新质生产力，需要发展更高层次开放型经济，建立多元平衡、安全高效的全面开放体系，坚持“引进来”和“走出去”相结合，增强自主创新能力，加快转变对外经济发展方式，推动新兴产业全球合作，培育战略性新兴产业集群，开辟发展新领域新赛道。

（若从“加强产学研合作，多主体协同培育高水平科技人才，发展战略性新兴产业。”等角度也可适当得分）

【解析】第一步：审设问。明确主体、知识范围、问题限定和作答角度。本题属于分析说明类试题，分析说明如何加快形成新质生产力，实现经济高质量发展。解答时，获取材料信息，多角度结合知识要点作答。

第二步：审材料。提取关键词，链接教材知识。

关键词①：加快形成新质生产力，增强发展新动能→可联系贯彻新发展理念，加快实施创新驱动发展战略。

关键词②：积极培育新能源、新材料、先进制造、电子信息等战略性新兴产业，积极培育未来产业→可联系培育形成新产业。

关键词③：积极培育战略性新兴产业→可联系发展更高层次开放型经济，建立多元平衡、安全高效的全面开放体系，坚持“引进来”和“走出去”相结合。

第三步：整合信息，组织答案。注意设问限定以及教材知识与材料等相结合。

12、（2024 金山一模）在第三届“一带一路”国际合作高峰论坛开幕式上，国家主席习近平宣布中国支持高质量共建“一带一路”的八项行动：

八项行动	具体举措
构建“一带一路” 立体互联互通网	推进中欧班列高质量发展 推进“丝路海运”港航贸一体化发展

络
支持建设开放型世界经济	全面取消制造业领域外资准入限制措施 深入推进跨境服务贸易和投资高水平开放
开展务实合作	实施 1000 个小型民生援助项目 推进中外职业教育合作 设立人民币融资窗口，丝路基金新增资金
促进绿色发展	持续深化绿色基建、绿色能源、绿色交通等领域合作
推动科技创新	支持各国青年科学家来华短期工作 促进全球人工智能发展
支持民间交往	成立丝绸之路旅游城市联盟
建设廉洁之路	建立“一带一路”企业廉洁合规评价体系
完善“一带一路”国际合作机制	加强能源、税收、金融、绿色发展、减灾、反腐败、智库、媒体、文化等领域的多边合作平台建设

结合材料，综合运用所学，谈谈中国支持高质量共建“一带一路”八项行动对我国高质量发展的意义。

【答案】 推动科技创新，促进全球人工智能发展；设立人民币融资窗口等有利于我国建设创新引领、协同发展的产业体系，推动互联网、大数据、人工智能同实体经济深度融合，实现实体经济、科技创新、现代金融协同发展，使科技创新在实体经济发展中的贡献份额不断提高，现代金融服务实体经济的能力不断增强，助推我国高质量发展。

推进“丝路海运”港航贸一体化发展，全面取消制造业领域外资准入限制措施，深入推进跨境服务贸易和投资高水平开放体现我国实行高水平的贸易和投资便利化政策，保护外商投资合法权益，稳步扩大规则、规制、管理、标准等制度型开放，有助于我国积极融入经济全球化，更好利用全球资源和市场，建设贸易强国，从而建设更高水平的开放型经济新体制，助推我国高质量发展。

持续深化绿色基建、绿色能源、绿色交通等领域合作，有利于贯彻创新、绿色发展理念，走生产发展、生活富裕、生活良好的文明发展道路，建设美丽中国，实现中华民族永续发展，建设人与自然和谐共生的中国式现代化。

推进中外职业教育合作、成立丝绸之路旅游城市联盟等，体现以人民为中心的发展思想，增强中华文明传

播力影响力，不断夯实文化自信，为我国高质量发展提供精神支持。

【解析】第一步：审设问。明确主体、知识范围、问题限定和作答角度。本题的设问要求可转换为共建“一带一路”八项行动如何推动我国高质量发展，需要调用高质量发展的有关知识，从措施角度分析作答。

第二步：审材料。提取关键词，链接教材知识。

有效信息①：推进“丝路海运”港航贸一体化发展，全面取消制造业领域外资准入限制措施→可联系我国实行高水平的贸易和投资便利化政策，建设更高水平的开放型经济新体制，助推我国高质量发展。

有效信息②：推动科技创新，促进全球人工智能发展；设立人民币融资窗口、企业廉洁合规评价体系→可联系建设创新引领、协同发展的产业体系，现代金融服务实体经济的能力不断增强，助推我国高质量发展。

有效信息③：持续深化绿色基建、绿色能源、绿色交通等领域合作→可联系贯彻创新、绿色发展理念，建设人与自然和谐共生的中国式现代化。

有效信息④：完善“一带一路”国际合作机制、成立丝绸之路旅游城市联盟等→可联系以人民为中心的发展思想，增强中华文明传播力影响力，不断夯实文化自信，为我国高质量发展提供精神支持。

第三步：整合信息，组织答案。注意设问限定以及教材知识与材料相结合。

13、（2024 金山一模）2023 年是改革开放 45 周年，作为我国改革开放的前沿阵地和深度链接全球的国际大都市的上海，要谋划新发展格局，增强内生动力和国际竞争力，加快建成社会主义现代化国际大都市。请结合情境主题，综合所学，分析上海如何谋划新发展格局加快建成社会主义现代化国际大都市。

【答案】上海要不断深化改革，要坚持制度管理科技创新激发城市活力，积极参与构建以国内大循环为主体、国内国际双循环相互促进的新发展格局，实现生产、分配、消费、流通各环节的良性循环，建设现代化经济体系、实现高质量发展，从而增强上海的内生动力，提升国际经济中心地位，从而加快建成社会主义现代化国际大都市。

上海推进高水平对外开放，发展高层次的开放型经济，形成以技术、品牌、质量、服务为核心的出口竞争新优势和培育国际经济合作竞争新优势，积极参与共建“一带一路”高质量发展，提升上海的国际竞争力，提升国际贸易航运中心地位，从而加快建成社会主义现代化国际大都市。

【解析】第一步：审设问。明确主体、知识范围、问题限定和作答角度。本题是开放型题目，综合所学，分析上海如何谋划新发展格局加快建成社会主义现代化国际大都市。

第二步：整合信息，组织答案。

解答本题，学生可根据设问要求，围绕“上海如何谋划新发展格局加快建成社会主义现代化国际大都市”这一主题，从坚持深化改革、高质量发展，高层次的开放型经济等方面组织答案。

考点07

个人收入分配

1.（2024 黄浦一模）（多选）中央经济工作会议指出，着力扩大国内需求。推动消费从疫后恢复转向持续扩大，培育壮大新型消费，大力发展数字消费、绿色消费、健康消费，积极培育智能家居、文娱旅游、体育赛事、国货“潮品”等新的消费增长点。下列措施对培育新的消费增长点推导正确的是（ ）

- A. 免征新能源汽车购置税→新能源汽车价格下降→消费者购车成本降低→新能源汽车销量增加
- B. 推动绿色低碳消费→转变消费观念→推动绿色产业发展→提高相关企业的竞争力
- C. 发展数字新技术→培育新模式新场景新业态→推进商务智能化便利化→助力释放消费潜力
- D. 发展农村电子商务→拓宽特色农产品销售渠道→带动农民增收致富→增强农村消费能力

【答案】CD

【详解】

A：免征新能源汽车购置税可以减轻消费者的购车负担，但不能降低新能源汽车价格，A 传导错误。

B：推动绿色产业发与提高相关企业的竞争力无关，B 传导错误。

C：发展数字新技术，可以培育新模式新场景新业态，进而推进商务智能化便利化，从而助力释放消费潜力，C 传导正确。

D：发展农村电子商务，可以拓宽特色农产品销售渠道，进而带动农民增收致富，有利于增强农村消费能力，D 符合题意。

故本题选 CD。

2、（2024 杨浦一模）（多选）李祖村持续推进本村的环境美化，良好的生态环境引来了“金凤凰”，目前已引进各类创业主体 52 家，既有创业的老村民，也有青年归乡人。丰富业态成为青年创客“展现才华的用武之地”，也带动了乡村发展，让全村人均可支配收入增加到 5.2 万元。由此可见（ ）

- A. 发展壮大农村集体经济有助于民生的改善
- B. 建设现代市场体系才能实现资源优化配置
- C. 非公有制经济成为改善民生的重要力量
- D. 公共服务的优化促进了共同富裕的实现

【答案】CD

【解析】A：发展壮大农村集体经济在材料中没有体现，A 不符合题意。

B：建设现代市场体系有利于实现资源优化配置，计划和市场都是资源配置的一种手段，并不是只有建设现代市场体系才能实现资源优化配置，B 错误。

C：各类创业主体 52 家，既有创业的老村民，也有青年归乡人。丰富业态成为青年创客“展现才华的用武之地”，也带动了乡村发展，让全村人均可支配收入增加到 5.2 万元。由此可见非公有制经济成为改善民生的重要力量，C 正确。

D：李祖村持续推进本村的环境美化，良好的生态环境引来了“金凤凰”，目前已引进各类创业主体 52 家，既有创业的老村民，也有青年归乡人。丰富业态成为青年创客“展现才华的用武之地”，也带动了乡村发展，让全村人均可支配收入增加到 5.2 万元。由此可见公共服务的优化促进了共同富裕的实现，D 正确。

故本题选 CD。

3、（2024 静安一模）人才是创新的根基。闫先生是上海 2023 年引进的数字化领军人才，就职于医疗科技行业，从事质子重离子医疗装备研发。

（1）（多选）2023 年，闫先生获得工资、奖金、津贴共 50 万元；银行存款所得利息 3 万元。当年，闫先生以上收入包括_____

A. 劳动性收入 B. 财产性收入 C. 转移性收入 D. 经营性收入

【答案】AB

【详解】ABCD：工资、奖金、津贴属于劳动收入，银行利息属于财产性收入，AB 符合题意，CD 排除。
故本题选 AB。

4. （2024 青浦一模）劳动者按照最低工资标准获取的收入属于（ ）

A. 政府财政补贴 B. 初次分配所得 C. 社会保障支出

【答案】B

【解析】ABC：劳动者按照最低工资标准获取的收入属于初次分配所得，不是财政补贴，也不是支出，AC 说法错误，B 说法正确。

故本题选 B。

5. （2024 浦东一模）上海市人民政府提出支持和规范发展新就业形态的一系列举措，部分如图所示。

劳动者在提供正常劳动情况下，所得劳动报酬应不低于本市最低工资标准。

引导企业建立劳动报酬合理增长机制，逐步提高劳动报酬水平。

督促企业与劳动者协商，完善订单分配、计件单价、抽成比例等规则。

上述举措主要是从_____（选填“生产力”或“生产关系”）角度改善新就业形态。综合所学内容，谈谈上述举措有哪些意义。_____

【答案】生产关系

上述举措有效落实体现效率、促进公平的收入分配制度，一方面调动劳动者的积极性，推动新就业形态健康发展。另一方面维护社会公平正义，增强新就业形态从业人员的获得感、幸福感、安全感。

【解析】第一步：审设问。明确主体、知识范围、问题限定和作答角度。本题的设问要求回答上述举措主要是从什么角度改善新就业形态，并说明举措的意义，需要调用生产力与生产关系、我国的个人收入分配等有关知识分析作答。

第二步：审材料。提取关键词，链接教材知识。

关键词①：建立劳动报酬合理增长机制，完善订单分配等规则→可联系上述举措主要是从“生产关系”的角度改善新就业形态。

关键词②：逐步提高劳动报酬水平→可联系有利于调动劳动者的积极性，推动新就业形态健康发展。

关键词③：所得劳动报酬应不低于本市最低工资标准→可联系有利于维护社会公平正义，增强获得感、幸福感、安全感。

第三步：整合信息，组织答案。注意设问限定以及教材知识与材料等相结合。

考点08

社会保障

1. （2024 嘉定一模）大数据、云计算、物联网等技术已广泛应用到城市治理中。通过数据平台，政府能

及时精准发现困难群众，实现了“人找政策”到“政策找人”的转变。从社会保障制度的角度来看，这项工作属于()。

- A. 社会保险
- B. 社会救助
- C. 社会优抚
- D. 社会福利

【答案】B

【解析】A：社会保险是保障公民在年老、疾病、工伤、失业、生育等情况下依法从国家和社会获得物质帮助，A 不符合题意。

B：发现困难群众，帮助困难群众，属于社会保障中社会救助，B 说法正确。

C：社会优抚是针对军人及其家属所建立的社会保障制度，是指国家和社会对军人及其家属所提供的各种优待、抚恤、养老、就业安置，材料未涉及社会优抚，C 不符合题意。

D：社会福利是政府和社会向老年人、残疾人、妇女、儿童和其他社会成员提供的社会化服务、实物供给或者福利津贴，材料未涉及社会福利，D 不符合题意。

故本题选 B。