

## 宝山区高三历史第一学期期末质量抽查试卷

(满分 100 分考试时间 60 分钟)

考生注意：

1. 本考试设试卷和答题纸两部分，试卷包括试题与答题要求：所有答题必须写在答题纸上：做在试卷上一律不得分。
2. 答题前，务必在答题纸上填写准考证号和姓名。
3. 答题纸与试卷在试题编号上是一一对应的，答题时应特别注意，不能错位。

一、选择题（以下 20 题，每题 2 分，共 40 分；每题只有一个正确选项。）

1. 通过考古发掘，陕西临潼的姜寨遗址表明我国古代先民已经

- A. 栽培谷物                      B. 冶炼金属                      C. 创立国家                      D. 发明文字

2. “今大道既隐，天下为家”的现象出现，其破坏的是

- A. 世装制                      B. 禅让制                      C. 分封制                      D. 礼乐制

3. 被公元 1 世纪史家赞誉为“其文直、其事核，不虚美、不隐恶，故谓之实录”的是

- A. 《资治通鉴》                      B. 《史通》                      C. 《史记》                      D. 《文史通义》

4. 要求……三十已下，见在朝廷之人，语音不听仍旧，若有故为，当加降险”的是

- A. 始皇帝                      B. 光武帝                      C. 孝文帝                      D. 隋炀帝

5. “盖岭北、辽阳与甘肃、四川、云南、湖广之边，唐所谓羁縻之州（在边疆设立的由当地少数民族首领担任长官的州），往往在是，今皆赋役之，比于内地”出现于

- A. 唐朝                      B. 宋朝                      C. 元朝                      D. 明朝

6. 提出“天下之物，则必各有所以然之故，与其所当然之则，所谓理也”的是

- A. 孔子                      B. 董仲舒                      C. 韩非子                      D. 朱熹

7. 据历史记载，1583 年耶稣会士利玛窦在广东肇庆建立教堂传教。该时间可表述为

- A. 15 世纪中期                      B. 15 世纪晚期                      C. 16 世纪中期                      D. 16 世纪晚期

8. 下图呈现的历史现象最早出现于



- A. 圈地运动后      B. 新航路开辟后      C. 宗教改革后      D. 工业革命后

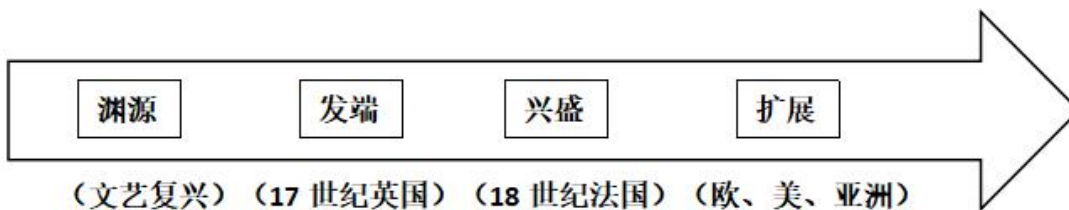
9. 规定“除经议会同意外，平时在本王国内征募或维持常备军，皆属违法”的法律文件是

- A. 《权利法案》      B. 《人权宣言》      C. 《王位继承法》      D. 《独立宣言》

10. 被评价为“既是资产阶级革命，又是民族解放战争”的历史事件是

- A. 英国革命      B. 法国大革命      C. 美国独立战争      D. 德国统一

11. 根据下列时间轴中的内容，据此判断其主题是



- A. 文艺复兴运动      B. 启蒙运动      C. 工业革命      D. 社会主义运动

12. 可用“民族危机”“改革”“工业化”“军国主义”等关键词评价 19 世纪的国家是

- A. 中国      B. 俄国      C. 德国      D. 日本

13. 1898 年《华盛顿邮报》的一篇社论：“无论如何，我们为一种新的感觉所激励。……就像尝到在屠场上的鲜血的味道，人们尝到了帝国的味道。”其评价的事件是

- A. 南北战争      B. 美西战争      C. 门户开放政策      D. 第一次世界大战

14. 19 世纪晚期资本主义社会中生产力和生产关系社会化程度提高的表现是

- A. 血汗工厂                      B. 农业机械化                      C. 电力的普及                      D. 垄断资本出现

15. 《南京条约》签订后，清政府君臣的态度是

- A. “从此万年和好，两国无争矣。惟贵国所定条款，期于永久遵行。”  
B. “以中国之伦常名教为原本，辅以诸国富强之术。”  
C. “今诚取西人器数之学，以卫吾尧、舜、禹、汤、文、武、周、孔之道。”  
D. “今兹议约，不侵我主权，不割我土地。念列邦之见谅，疾愚暴之无知，事后追思，惭愤交集。”

16. 近期据媒体报道，“圆明园马首铜像划拨入藏仪式”在北京圆明园正觉寺举行。据此推算圆明园马首铜像（下图）流失时间约



- A. 150 年                      B. 160 年                      C. 170 年                      D. 180 年

17. 导致国共第一次合作破裂、大革命失败的历史事件是

- A. “四一二”政变                      B. “七一五”政变                      C. “九一八”事变                      D. 华北事变

18. 若以“富起来”为题宣传新中国建设的成就，下列可选择的事件是

- A. 土地改革                      B. “一化三改造”                      C. 重返联合国                      D. 浦东开发

19. 二十世纪以来，逐步实现民族国家之间的政治与经济联合的是

- A. 联合国的成立                      B. 世界贸易组织的成立  
C. 西欧的一体化                      D. 上海合作组织的成立

20. 二战后，逐步演化为美国同苏联在全球争霸的主要工具是

- A. 华沙条约组织                      B. 北大西洋公约组织                      C. 欧洲共同体                      D. 亚太经合组织.

## 二、综合分析题（共 60 分）

21. 中国古代的国家政治治理

国家治理体系是一个国家制度和制度执行能力的集中体现，是一整套紧密相连、相互协调的国家制度。

其中治理国家的政治制度体系是其中的一个重要组成部分。

(1) 完成下列提纲。(将字母分别填入相应空格中)

- A. 削弱地方权力与加强中央集权的地方官制
- B. 选择标准的演变与不断制度化的趋势
- C. 君主专制下大一统中央集权制度的演变
- D. 由官员兼任到设立专门机构的演变趋势
- E. “家国一体”政治特点的先秦政治制度

### 一、从贵族政治到官僚政治的演变

- 1) \_\_\_\_\_
- 2) 皇权为中心的大一统中央集权体制创设
- 3) 分工严密各司其职的官僚制度不断完善

### 二、\_\_\_\_\_

- 1) 皇权不断加强与相权不断削弱的中央官制
- 2) \_\_\_\_\_
- 3) 地方管理由中央垂直管理向派驻管理的转变
- 4) 制度与官制不断创新的有效边疆治理

### 三、选官制度的演变

- 1) \_\_\_\_\_
- 2) 逐渐成为强化皇权、加强统治的手段

### 四、监察制度的演变

- 1) \_\_\_\_\_
- 2) 对地方的监察越来越严密，皇权得以进一步加强

(2) 若就提纲中的“二”展开论述，可选择下列哪三则材料？(选字母)

A



清民间匾额

B



秦代行政图

C



清掣签金瓶

D



研究西周著作

E



唐北庭都护府遗址

## 22. 历史人物的面相

某历史教师为高中学生做有关“法国近代历史人物拿破仑”的专题讲座。

该教师首先出示了史料一：

拿破仑已经了解到近现代国家的真正本质;他已经明白,资产阶级政权的无阻碍发展和私人利益的自由运动等,都是这些国家的基本体现,他决定承认和保护这一基础。  
--马克思《马克思恩格斯全集》

(1) 教师提问：根据史料一概括“拿破仑”的面相。

学生回答：\_\_\_\_\_。

接着，教师出示了史料二：

当正当拿破仑建立起拿破仑帝国，奴役着欧洲许多早已形成的、有生存能力的民族、国家的时候，法兰西的国家民族主义战争便成为了帝国资本主义战争，而这种侵略扩张战争又变成了反对拿破仑帝国体系的自卫反击战争。  
--列宁《列宁全集》

(2) 教师提问：通过这则追加的史料，还可以看到“拿破仑”的哪一面相？

学生回答：\_\_\_\_\_。

然后，教师又出示了史料三：

将他(拿破仑)的法典带到被他征服的国家里，这个法典比历来的法典都要优越得多，它在原则上承认平等。  
--恩格斯《德国状况》

(3) 教师提问：这则史料可与上述哪则史料相佐证？说明理由。

学生回答：\_\_\_\_\_。

(4) 教师启发：综合上述材料，陈述你眼中“拿破仑”的面相，并从证据的角度说明理由。

## 23. “中国第一厂”的前世今生

材料一 同治四年（1865年）清政府购买了外国人开设在上海虹口地区的旗记铁厂，并将原有两洋炮局并入，组成新厂，定名为“江南机器制造总局”，制造船炮军火和各种机器，诞生了中国第一台车床，自行建造了中国第一艘蒸汽推进的军舰“惠吉”号和第一艘铁甲军舰“金瓯”号，研制了中国第一支步枪、第一门钢炮、第一磅无烟火药，炼出了中国第一炉钢……



1867 年，江南机器制造总局迁至城南高昌庙现址，并建立了翻译馆。翻译馆不仅造就了徐寿、华蘅芳、徐建寅等中国近代第一流的科学家和工程专家，而且成为全面介绍、学习世界先进科学技术的开拓者……

1938 年 1 月，江南造船厂被日军侵占，改名“三菱重工业株式会社江南造船所”，由此，江南厂陷入了苦难的深渊……到 1949 年，连年战乱的践踏和国民党军队撤退前的大破坏，使江南厂满目疮痍，破败不堪。

——引自江南造船（集团）有限责任公司官网《企业沿革》

材料二 1949 年 5 月 28 日，陈毅同志签署上海市军管会第一号命令，正式接管江南造船厂。江南造船厂持续创造了一个又一个“第一”：建造了中国第一艘潜艇、第一艘护卫舰、第一台万吨水压机、第一艘自行研制的国产万吨轮“东风”……第一代航天测量船“远望 1”、“远望 2”号和首艘大型远洋调查船“向阳红 10”号等。

80 年代后，建造的“江南巴拿马”型系列散货船，是中国第一个在国际租船市场上挂牌交易的国际著名品牌。建造了中国第一艘液化气（LPG）运输船，开发建造的汽车滚装船、快速集装箱船、大型自卸船、跨海火车渡船等一大批高技术船舶，达到了国际先进水平。

年份	江南造船厂大事记
1994	率先成为全国 100 家大中型企业首批建立现代企业制度试点单位之一。
1997	“江南重工” A 股在上海证监交易所上市。
2000	毗邻的百年老船厂求新造船厂整体并入江南造船厂。
2001	江南造船厂债转股工作圆满完成，新的公司法人治理结构正式诞生。
2007	国防科技工业先进技术研究应用中心成立。
2008	因世博会建设和自身发展需要，江南造船从黄浦江畔整体搬迁到长兴岛。
2015	成功实现了成为中国第一军工造船企业的目标。
2016	江南造船成立江南研究院，开启了高质量发展的新征程。

问题：

- （1）根据材料一，概括“中国第一厂”前世的影响。
- （2）根据材料二，概括“中国第一厂”今生的成果。
- （3）根据材料和所学，你如何看待“中国第一厂”的前世今生。

## 宝山区高三历史第一学期期末质量抽查试卷

(满分 100 分考试时间 60 分钟)

考生注意：

1. 本考试设试卷和答题纸两部分，试卷包括试题与答题要求：所有答题必须写在答题纸上：做在试卷上一律不得分。
2. 答题前，务必在答题纸上填写准考证号和姓名。
3. 答题纸与试卷在试题编号上是一一对应的，答题时应特别注意，不能错位。

一、选择题（以下 20 题，每题 2 分，共 40 分；每题只有一个正确选项。）

1. 通过考古发掘，陕西临潼的姜寨遗址表明我国古代先民已经

- A. 栽培谷物                      B. 冶炼金属                      C. 创立国家                      D. 发明文字

【答案】A

【解析】

【详解】根据材料并结合所学可知，陕西临潼的姜寨遗址距今约 6000 年左右，处于新石器时代中期，是迄今为止中国新石器时代聚落遗址中发掘面积最大的一处。结合所学可知，新石器时代的人们已开始从事原始农业，以粟等为主要栽培作物，姜寨遗址中出土了炭化了的粟和菜籽，说明我国古代先民已经懂得栽培谷物，故 A 项正确；新石器时代晚期，我国古代先民掌握了金属冶炼技术，能炼出用于生活的小件铜器，这与材料时间不符，故 B 项错误；考古学证明，大约相当于五帝后期的龙山文化时代，中国进入“万邦”时代，专家认为有些邦国具备了国家的初始形态，这与材料无关，故 C 项错误；“发明文字”在姜寨遗址中无从考证，中国成熟的文字是商代的甲骨文，故 D 项从错误。

2. “今大道既隐，天下为家”的现象出现，其破坏的是

- A. 世袭制                      B. 禅让制                      C. 分封制                      D. 礼乐制

【答案】B

【解析】

【详解】根据所学知识可知，禅让制是传说中的部落联盟首领传袭制度，禅让制实际上是以传贤为宗旨的选举首领制度，而题干“天下为家”揭示的是世袭制，破坏了禅让制，B 项正确；世袭制就是古代君王去世或逊位后，将君王的九五之尊转给自己的子孙的传承制度，题干“天下为家”揭示的是世袭制，但不符合题意，A 项错误；分封制是中国古代分封诸侯的制度，明显与题干要求不符合，C 项错误；礼乐制是周代维护分封制而建立起的文化制度，可以用于维护其宗法制度和君权、族权、夫权、神权，具有维护贵族的世袭制、等级制和加强统治的作用，与题干要求不符合，D 项错误。

3. 被公元1世纪史家赞誉为“其文直、其事核，不虚美、不隐恶，故谓之实录”的是

- A. 《资治通鉴》      B. 《史通》      C. 《史记》      D. 《文史通义》

【答案】C

【解析】

【详解】根据材料并结合所学可知，东汉班固（公元32-公元92年）写的《汉书·司马迁传》，称赞《史记》是“其文直、其事核，不虚美、不隐恶，故谓之实录”，故C项正确；《资治通鉴》是北宋司马光所著，与材料时间公元1世纪不符，故A项错误；《史通》是唐朝刘知已所著，与材料时间公元1世纪不符，故B项错误；《文史通义》是清代浙东学派史家章学诚的代表作，与材料时间公元1世纪不符，故D项错误。

4. 要求……三十已下，见在朝廷之人，语音不听仍旧，若有故为，当加降陞”的是

- A. 始皇帝      B. 光武帝      C. 孝文帝      D. 隋炀帝

【答案】C

【解析】

【详解】根据材料“要求……三十已下，见在朝廷之人，语音不听仍旧，若有故为，当加降陞”可知，材料的意思是要求三十岁以下的官员必须说汉话，如果有谁故意不改，就一定要降免其官职。结合所学可知，北魏孝文帝改革，规定汉语为官方语言，禁止三十岁以下的官员在朝堂上讲鲜卑语，故C项正确；始皇帝、光武帝和隋炀帝与材料无关，故排除A、B、D项。

5. “盖岭北、辽阳与甘肃、四川、云南、湖广之边，唐所谓羁縻之州（在边疆设立的由当地少数民族首领担任长官的州），往往在是，今皆赋役之，比于内地”出现于

- A. 唐朝      B. 宋朝      C. 元朝      D. 明朝

【答案】C

【解析】

【详解】根据材料“盖岭北、辽阳与甘肃、四川、云南、湖广之边，唐所谓羁縻之州，往往在是，今皆赋役之，比于内地”，并结合所学可知，元朝为了管辖辽阔的疆域，一改唐朝在边疆地区设立羁縻州，任用当地少数民族首领担任长官的做法，在岭北、辽阳与甘肃、四川、云南、湖广等地设立行省，与内地一样，由中央派官员进行管理，征发赋役等，故C项正确；唐朝在边疆地区设立羁縻州，由当地少数民族首领担任长官，这与题意不符，故A项错误；宋朝疆域未到达岭北、辽阳等地，故B项错误；明朝时期，岭北地区不属于明政府辖区，故D项错误。



6. 提出“天下之物，则必各有所以然之故，与其所当然之则，所谓理也”的是

- A. 孔子                      B. 董仲舒                      C. 韩非子                      D. 朱熹

【答案】D

【解析】

【详解】根据材料“天下之物，则必各有所以然之故，与其所当然之则，所谓理也”，可知，材料认为“理”是万物之所以发展变化或之所以成立的内在原因。结合所学可知，这是南宋理学家朱熹的思想主张，朱熹是理学集大成者，认为“理”是万物的本原，故 D 项正确；理学出现在宋明时期，春秋时期的孔子未提出“理”的主张，故 A 项错误；董仲舒是西汉儒学大家，其主张与理学无关，故 B 项错误；韩非子是法家集大成者，其主张与理学无关，故 C 项错误。

7. 据历史记载，1583 年耶稣会士利玛窦在广东肇庆建立教堂传教。该时间可表述为

- A. 15 世纪中期                      B. 15 世纪晚期                      C. 16 世纪中期                      D. 16 世纪晚期

【答案】D

【解析】

【详解】根据材料并结合所学可知，一个世纪一百年，判断世纪可以在百位数上加 1 即可，如 1583 年，百位数是 5，所以 1583 年属于 16 世纪；一个世纪内的阶段划分，可以划分为前后两期或早、中、晚三期，其中晚期大约为一百年中的后三十年，所以 1583 年可表述为 16 世纪晚期，故 D 项正确；排除 A、B、C 项。

8. 下图呈现的历史现象最早出现于



- A. 圈地运动后                      B. 新航路开辟后                      C. 宗教改革后                      D. 工业革命后

【答案】B

【解析】

【详解】根据材料图示可知，当时欧洲的“工业制品输往非洲”、“非洲的奴隶输往美洲”、“美洲的热带作物输往欧洲”，这与新航路开辟后出现的“三角贸易”相符，“三角贸易”加强了世界的联系，故B项正确；圈地运动指的是贵族将农民强行赶走，种草养羊，获取暴利，圈地运动主要出现在欧洲，这与材料主旨不符，故A项错误；宗教改革摧毁了天主教的神权统治，确立了新教，这与材料无关，故C项错误；工业革命后世界联系进一步加强，但不是最早，故D项错误。

9. 规定“除经议会同意外，平时在本王国内征募或维持常备军，皆属违法”的法律文件是

- A. 《权利法案》                      B. 《人权宣言》                      C. 《王位继承法》                      D. 《独立宣言》

【答案】A

【解析】

【详解】根据所学知识可知，“除经议会同意外，平时在本王国内征募或维持常备军，皆属违法”出自1689年《权利法案》，这是对君权的限制，标志君主立宪制在英国开始形成，所以A正确；《人权宣言》是在法国大革命时期颁布的纲领性文件，在动员和团结法国人民参加反封建斗争方面起了极其重要的作用，这与材料不符，所以B错误；《王位继承法》规定此后国王不得为天主教徒，也不能与天主教徒结婚，这与材料不符，所以C错误；《独立宣言》是北美洲十三个英属殖民地宣告自大不列颠王国独立，并宣明此举正当性之文告，这与材料不符，所以D错误。

10. 被评价为“既是资产阶级革命，又是民族解放战争”的历史事件是

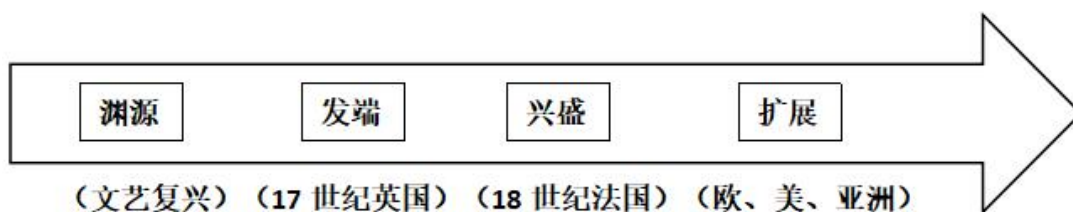
- A. 英国革命                      B. 法国大革命                      C. 美国独立战争                      D. 德国统一

【答案】C

【解析】

【详解】根据所学知识可知，美国独立战争的胜利，对欧洲大陆及拉丁美洲地区的现代资产阶级民主主义革命起了推动作用。它结束了英国的殖民统治，实现了国家的独立，确立了比较民主的近现代政治体制，对以后欧洲和拉丁美洲的革命也起了推动作用，所以C正确；ABD都与题意要求不符，所以ABD错误。

11. 根据下列时间轴中的内容，据此判断其主题是



- A. 文艺复兴运动      B. 启蒙运动      C. 工业革命      D. 社会主义运动

【答案】B

【解析】

【详解】根据材料并结合所学可知，随着文艺复兴和宗教改革运动的深入发展，随着资本主义的发展，17 世纪，启蒙运动发端于英国，涌现出霍布斯、洛克等启蒙思想家；18 世纪的法国启蒙运动发展到高潮，伏尔泰、孟德斯鸠、卢梭等一大批启蒙思想家纷纷著书立说，他们的主张成为资产阶级革命的思想武器，指导了北美独立战争和法国大革命，其影响扩展到欧美地区；随着启蒙思想的传播，进而影响到亚洲等世界其他地区，故 B 项正确；文艺复兴运动的范围只局限于西欧地区，这与题意不符，故 A 项错误；工业革命指的是以科学技术为作为驱动力，以机器大生产取代工场手工业，这与题意不符，故 C 项错误；社会主义运动是工业革命的产物，号召无产阶级为实现自身解放和全人类解放而奋斗，这与题意不符，故 D 项错误。

12. 可用“民族危机”“改革”“工业化”“军国主义”等关键词评价 19 世纪的国家是

- A. 中国      B. 俄国      C. 德国      D. 日本

【答案】D

【解析】

【详解】根据材料并结合所学可知，19 世纪中期，日本面临沦为半殖民地的民族危机。日本有识之士于 1868 年推翻幕府统治，进行改革，史称“明治维新”。明治政府推行“殖产兴业”等措施，大力引进西方技术设备，促进了日本的工业化。明治维新使日本实现了富国强兵，走上了资本主义发展的道路，但也保留了大量封建势力，官僚寡头和军阀实际掌握了权力，成为军国主义的社会基础，日本很快开始对外侵略扩张，故 D 项正确；19 世纪的中国与“军国主义”无关，故 A 项错误；19 世纪的俄国与“军国主义”无关，故 B 项错误；19 世纪的德国一度处于四分五裂状态，普鲁士王国通过王朝战争完成统一，统一后的德国迅速崛起，与“民族危机”无关，故 C 项错误。

13. 1898 年《华盛顿邮报》的一篇社论：“无论如何，我们为一种新的感觉所激励。……就像尝到在屠场上的鲜血的味道，人们尝到了帝国的味道。”其评价的事件是

- A. 南北战争                      B. 美西战争                      C. 门户开放政策                      D. 第一次世界大战

【答案】B

【解析】

【详解】根据材料“1898 年”“我们为一种新的感觉所激励。……人们尝到了帝国的味道”等信息结合所学可知，1898 年 2 月 5 日“缅因号”事件，点燃了美西战争的导火线，西班牙挑起战争，但美国却以极小的代价进行海外扩张，因此材料内容体现的是美西战争，B 项正确；根据所学可知，美国南北战争发生于 1861 年，不符合题意，A 项错误；门户开放政策提出于 1899 年，与题干时间不符，C 项错误；第一次世界大战爆发于 1914 年，不符合题干时间，D 项错误。

14. 19 世纪晚期资本主义社会中生产力和生产关系社会化程度提高的表现是

- A. 血汗工厂                      B. 农业机械化                      C. 电力的普及                      D. 垄断资本出现

【答案】D

【解析】

【详解】根据材料并结合所学可知，19 世纪晚期，随着第二次工业革命的进行，生产和资本高度集中，垄断组织产生。垄断的出现，是生产力发展的必然结果，是对生产关系的局部调整，适应了社会化大生产的需要，故 D 项正确；工厂是第一次工业革命的产物，故 A 项错误；“农业机械化”是生产力发展的表现，与材料主旨不符，故 B 项错误；电力的普及，使人类进入电气时代，与材料无关，故 C 项错误。

15. 《南京条约》签订后，清政府君臣的态度是

- A. “从此万年和好，两国无争矣。惟贵国所定条款，期于永久遵行。”  
B. “以中国之伦常名教为原本，辅以诸国富强之术。”  
C. “今诚取西人器数之学，以卫吾尧、舜、禹、汤、文、武、周、孔之道。”  
D. “今兹议约，不侵我主权，不割我土地。念列邦之见谅，疾愚暴之无知，事后追思，惭愤交集。”

【答案】A

【解析】

【详解】根据材料并结合所学可知，1842 年 9 月 1 日，《南京条约》签订后 3 日，清朝钦差大臣耆英等人致英国全权代表璞鼎查的照会中说，“从此万年和好，两国无争矣。惟贵国所定条款，期于永久遵行……”，故 A 项正确；“以中国之伦常名教为原本，辅以诸国富强之术。”是洋务派“中体西用”的思想主张，与材

料主旨不符，故 **B** 项错误；“今诚取西人器数之学，以卫吾尧、舜、禹、汤、文、武、周、孔之道。”是洋务派“中体西用”的思想主张，与材料主旨不符，故 **C** 项错误；“今兹议约，不侵我主权，不割我土地。念列邦之见谅，疾愚暴之无知，事后追思，惭愤交集。”是《辛丑条约》签订后，光绪帝颁布的罪己诏书的内容，与材料不符，故 **D** 项错误。

16. 近期据媒体报道，“圆明园马首铜像划拨入藏仪式”在北京圆明园正觉寺举行。据此推算圆明园马首铜像（下图）流失时间约



- A. 150 年                      B. 160 年                      C. 170 年                      D. 180 年

【答案】B

【解析】

【详解】根据所学知识可知，为进一步打开中国大门，英国联合法国发动了第二次鸦片战争，1860年10月英法联军攻入北京，闯进圆明园，疯狂抢掠园中珍宝，马首等铜像丢失，故圆明园文物大量流失海外始于1860年的第二次鸦片战争，马首在2020年回归，距现在160年，B项正确；根据所学知识可知，圆明园文物大量流失海外始于1860年的第二次鸦片战争，马首在2020年回归，距现在160年，排除A、C、D项。

17. 导致国共第一次合作破裂、大革命失败的历史事件是

- A. “四一二”政变              B. “七一五”政变              C. “九一八”事变              D. 华北事变

【答案】B

【解析】

【详解】根据所学知识可知，在国民革命如火如荼地进行的时候，革命阵营内部却隐藏着危机，1927年，蒋介石和汪精卫分别制造了四一二政变和七一五政变，第一次国共合作全面破裂，因此最终导致国共第一次合作破裂、大革命失败的历史事件是“七一五”政变，B项正确；1927年，蒋介石和汪精卫分别制造了四一二政变和七一五政变，第一次国共合作全面破裂，因此最终导致国共第一次合作破裂、大革命失败的历史事件是“七一五”政变，而不是“四一二”政变，A项错误；“九一八”事变发生于1931年9月18日，



这时期国共两党第一次合作早已结束，C项错误；华北事变发生于1935年，而导致国共第一次合作破裂、大革命失败的历史事件是1927年的“七一五”政变，D项错误。

18. 若以“富起来”为题宣传新中国建设的成就，下列可选择的事件是

- A. 土地改革                      B. “一化三改造”                      C. 重返联合国                      D. 浦东开发

【答案】D

【解析】

【详解】根据材料并结合所学可知，习总书记在十九大的报告中提出了“站起来、富起来、强起来”这一重要论断。其中“富起来”指的是改革开放以后，中国的社会主义建设取得了巨大成就，人民的物质生活与精神文化逐日丰满，因此，若以“富起来”为题宣传新中国建设的成就，可选择“浦东开发”，1990年浦东开发大幕拉开，标志着中国改革开放从区域性试验转入了全面展开和深化阶段，浦东开发向世界展示了改革开放的巨大成功，故D项正确；新中国“土地改革”发生在1950-1952年，与材料主旨不符，故A项错误；“一化三改造”发生在1953-1956年，与材料主旨不符，故B项错误；“重返联合国”发生在1971年，与材料主旨不符，故C项错误。

19. 二十世纪以来，逐步实现民族国家之间的政治与经济联合的是

- A. 联合国的成立                      B. 世界贸易组织的成立  
C. 西欧的一体化                      D. 上海合作组织的成立

【答案】C

【解析】

【详解】根据材料并结合所学可知，1967年欧共体成立，法国、联邦德国等西欧国家开始了经济一体化进程。1993年，在欧共体的基础上，欧盟诞生，西欧朝着政治经济一体化方向发展，逐步实现民族国家之间的政治与经济联合，故C项正确；联合国是政府间的国际组织，宗旨是维护国际和平与安全，这与题意不符，故A项错误；1995年世界贸易组织的成立，其宗旨是实现贸易自由化，这与题意不符，故B项错误；2001年上海合作组织的成立，开创了结伴而不结盟的新型国际关系，这与题意不符，故D项错误。

20. 二战后，逐步演化为美国同苏联在全球争霸的主要工具是

- A. 华沙条约组织                      B. 北大西洋公约组织                      C. 欧洲共同体                      D. 亚太经合组织.

【答案】B

【解析】

【详解】根据材料并结合所学可知，二战后，美国对苏联推行冷战政策，其中 1949 年美国等 12 国建立了以美国为首的军事政治集团——北大西洋公约组织，北约拥有大量核武器和常规部队，是西方重要的军事力量，是马歇尔计划的发展，使美国得以控制欧洲的防务体系，是美国同苏联在全球争霸的主要工具，故 B 项正确；华沙条约组织是苏联针对美国建立北约的应对措施，与题意不符，故 A 项错误；欧洲共同体是欧洲的经济一体化组织，不是美国同苏联在全球争霸的主要工具，故 C 项错误；亚太经合组织是 1989 年成立的亚太地区重要的经济合作论坛，与题意不符，故 D 项错误。

## 二、综合分析题（共 60 分）

### 21. 中国古代的国家政治治理

国家治理体系是一个国家制度和制度执行能力的集中体现，是一整套紧密相连、相互协调的国家制度。其中治理国家的政治制度体系是其中的一个重要组成部分。

（1）完成下列提纲。（将字母分别填入相应空格中）

- A. 削弱地方权力与加强中央集权的地方官制
- B. 选择标准的演变与不断制度化的趋势
- C. 君主专制下大一统中央集权制度的演变
- D. 由官员兼任到设立专门机构的演变趋势
- E. “家国一体”政治特点的先秦政治制度

## 一、从贵族政治到官僚政治的演变

- 1) \_\_\_\_\_
- 2) 皇权为中心的大一统中央集权体制创设
- 3) 分工严密各司其职的官僚制度不断完善

## 二、\_\_\_\_\_

- 1) 皇权不断加强与相权不断削弱的中央官制
- 2) \_\_\_\_\_
- 3) 地方管理由中央垂直管理向派驻管理的转变
- 4) 制度与官制不断创新的有效边疆治理


## 三、选官制度的演变

- 1) \_\_\_\_\_
- 2) 逐渐成为强化皇权、加强统治的手段

## 四、监察制度的演变

- 1) \_\_\_\_\_
- 2) 对地方的监察越来越严密，皇权得以进一步加强

(2) 若就提纲中的“二”展开论述，可选择下列哪三则材料？（选字母）



【答案】(1) 一、 1): E ; 二、 C; 2): A ; 三、 1): B; 四、 1): D

(2) B、C、E

【解析】

【详解】(1) 一、贵族政治指的是先秦时期的政治体制，以血缘关系为纽带，夏商周的制度都具有“家国一体”特点，所以 1) 应填 E；二、根据材料中的皇权加强、地方管理由中央垂直管理等可知，这里强调的是中央集权，所以二出应填 C；且 2) 处应填 A；三、标题是选官制度的演变，而中国的选官制度的标准经历了从血缘到德才、门第和才学的演变，且不断制度化，所以 1) 处应填 B；四、中国古代监察制度

在封建社会初期往往由官员兼任，随着历史发展，后来设立专门机构进行监察，所以 1) 处应填 D。

(2) 根据材料可知，“秦代行政图”，反映的是秦代郡县制加强中央集权，与君主专制下大一统中央集权制度的演变有关，故 B 项正确；“清掣签金瓶”反映的是清朝利用民族政策加强中央集权，与君主专制下大一统中央集权制度的演变有关，故 C 项正确；都护府是汉、唐时期中原王朝为监护边境各族而设置的军事机构，有利于加强专制主义中央集权，故 E 项正确；“清民间匾额”反映的是科举制的发展，与君主专制下大一统中央集权制度的演变无关，故 A 项错误；西周著作反映的是西周政治、经济等方面的历史，当时还未产生专制主义中央集权制度，故 D 项错误。

## 22. 历史人物的面相

某历史教师为高中学生做有关“法国近代历史人物拿破仑”的专题讲座。

该教师首先出示了史料一：

拿破仑已经了解到近现代国家的真正本质;他已经明白，资产阶级政权的无阻碍发展和私人利益的自由运动等，都是这些国家的基本体现，他决定承认和保护这一基础。  
--马克思《马克思恩格斯全集》

(1) 教师提问：根据史料一概括“拿破仑”的面相。

学生回答：\_\_\_\_\_。

接着，教师出示了史料二：

当正当拿破仑建立起拿破仑帝国，奴役着欧洲许多早已形成的、有生存能力的民族、国家的时候，法兰西的民族主义战争便成为了帝国主义战争，而这种侵略扩张战争又变成了反对拿破仑帝国体系的自卫反击战争。  
--列宁《列宁全集》

(2) 教师提问：通过这则追加的史料，还可以看到“拿破仑”的哪一面相？

学生回答：\_\_\_\_\_。

然后，教师又出示了史料三：

将他(拿破仑)的法典带到被他征服的国家里，这个法典比历来的法典都要优越得多，它在原则上承认平等。  
--恩格斯《德国状况》

(3) 教师提问：这则史料可与上述哪则史料相佐证？说明理由。

学生回答：\_\_\_\_\_。

(4) 教师启发：综合上述材料，陈述你眼中“拿破仑”的面相，并从证据的角度说明理由。

**【答案】**(1) 代表资产阶级利益；从国家制度层面、国家机器角度维护和推动资本主义的发展。

(2) 拿破仑建立的帝国，在对外战争中，既有维护法国资产阶级和国家利益的正义性，也有对外发动奴役欧洲国家的侵略性质。

(3) 史料一；理由：拿破仑通过战争的方式把维护资产阶级利益的《法典》和代表法国资产阶级革命的平等思想扩展到欧洲，客观上推动了欧洲资本主义的发展。

(4) 三则材料都是从历史唯物主义的不同角度分析评价了历史人物拿破仑，反映了历史人物的复杂性、多面性；其顺应了历史潮流，客观上推动了包括法国在内的欧洲资本主义的发展；拿破仑代表了法国资产阶级利益，通过法律制度和对外战争维护和扩大了法国革命的成果；但其对外战争奴役了欧洲国家，受到了欧洲的普遍反抗，战争具有侵略性。

**【解析】**

**【详解】**(1) 根据史料一，从拿破仑代表的阶级利益和其所起的作用概括“拿破仑”的面相，如代表资产阶级利益；从国家制度层面、国家机器角度维护和推动资本主义的发展。

(2) 根据史料二，从拿破仑帝国所进行的战争的性质，分析“拿破仑”的另一面相，即拿破仑建立的帝国，在对外战争中，既有维护法国资产阶级和国家利益的正义性，也有对外发动奴役欧洲国家的侵略性质。

(3) 根据史料三并结合所学可知，史料三可以与史料一相佐证。理由是拿破仑通过战争的方式把维护资产阶级利益的《法典》和代表法国资产阶级革命的平等思想扩展到欧洲，客观上推动了欧洲资本主义的发展。

(4) 根据史料一、二、三，从唯物史观的角度综合评价拿破仑。三则史料从不同的角度分析评价了历史人物拿破仑，反映了历史人物的复杂性、多面性；史料一从拿破仑代表的阶级利益和其所起的作用角度，分析了拿破仑顺应了历史潮流，推动了欧洲资本主义的发展；史料二从拿破仑帝国所进行的战争的性质角度，辩证分析了战争的正义性和侵略性；史料三从拿破仑法典的角度分析了拿破仑代表了法国资产阶级利益，通过法律制度巩固了法国革命的成果。

### 23. “中国第一厂”的前世今生

材料一 同治四年(1865年)清政府购买了外国人开设在上海虹口地区的旗记铁厂，并将原有两洋炮局并入，组成新厂，定名为“江南机器制造总局”，制造船炮军火和各种机器，诞生了中国第一台车床，自行建造了中国第一艘蒸汽推进的军舰“惠吉”号和第一艘铁甲军舰“金瓯”号，研制了中国第一支步枪、第一门钢炮、第一磅无烟火药，炼出了中国第一炉钢……



1867年，江南机器制造总局迁至城南高昌庙现址，并建立了翻译馆。翻译馆不仅造就了徐寿、华蘅芳、徐建寅等中国近代第一流的科学家和工程专家，而且成为全面介绍、学习世界先进科学技术的开拓者……

1938年1月，江南造船厂被日军侵占，改名“三菱重工业株式会社江南造船所”，由此，江南厂陷入了苦难的深渊……到1949年，连年战乱的践踏和国民党军队撤退前的大破坏，使江南厂满目疮痍，破败不堪。

——引自江南造船（集团）有限责任公司官网《企业沿革》

材料二 1949年5月28日，陈毅同志签署上海市军管会第一号命令，正式接管江南造船厂。江南造船厂持续创造了一个又一个“第一”：建造了中国第一艘潜艇、第一艘护卫舰、第一台万吨水压机、第一艘自行研制的国产万吨轮“东风”……第一代航天测量船“远望1”、“远望2”号和首艘大型远洋调查船“向阳红10”号等。

80年代后，建造的“江南巴拿马”型系列散货船，是中国第一个在国际租船市场上挂牌交易的国际著名品牌。建造了中国第一艘液化气（LPG）运输船，开发建造的汽车滚装船、快速集装箱船、大型自卸船、跨海火车渡船等一大批高技术船舶，达到了国际先进水平。

年份	江南造船厂大事记
1994	率先成为全国100家大中型企业首批建立现代企业制度试点单位之一。
1997	“江南重工”A股在上海证监交易所上市。
2000	毗邻的百年老船厂求新造船厂整体并入江南造船厂。
2001	江南造船厂债转股工作圆满完成，新的公司法人治理结构正式诞生。
2007	国防科技工业先进技术研究应用中心成立。
2008	因世博会建设和自身发展需要，江南造船从黄浦江畔整体搬迁到长兴岛。
2015	成功实现了成为中国第一军工造船企业的目标。
2016	江南造船成立江南研究院，开启了高质量发展的新征程。

问题：

- （1）根据材料一，概括“中国第一厂”前世的影响。
- （2）根据材料二，概括“中国第一厂”今生的成果。
- （3）根据材料和所学，你如何看待“中国第一厂”的前世今生。

**【答案】**（1）影响：促进了中国近代工业的发展，生产了中国第一台车床等机械设备；促进了中国近代军事力量的发展，生产了中国自行生产的第一台军舰，第一支步枪等武器；在此基础上成立翻译官，培养了一系列人才；促进了中国近代化的发展。

（2）成果：创造了一个又一个“第一”：第一艘潜艇，第一艘护卫舰等，发展了中国的海上军事力量；制

造的产品形成品牌，且达到了国际先进水平，开发建造了一系列高技术船舶；成立研究院，为后续发展提供人才支持。

（3）前世：江南造船厂在正处于内忧外患的中国诞生，承担着救亡图存的使命，在洋务运动中，它大力发展了中国近代工业，军事力量，有利提升了我国的实力，是近代民族工业企业的优秀代表，开启了中国近代化军事及民族工业与其它诸项文化事业之先河。

今生：江南造船厂历史悠久，是研究中国民族企业和工业发展历程的活化石，它创造了中国工业史上的诸多第一，它为中国民族工业的发展作出了巨大贡献，它代表了一种自强不息、求实创新的民族企业精神，并在新时代带领整个造船业开拓创新，走向世界。

#### 【解析】

【详解】（1）根据材料“诞生了中国第一台车床”可知，促进了中国近代工业的发展，生产了中国第一台车床等机械设备；根据材料“制造船炮军火和各种机器，诞生了中国第一台车床，自行建造了中国第一艘蒸汽推进的军舰‘惠吉’号和第一艘铁甲军舰‘金瓯’号，研制了中国第一支步枪、第一门钢炮、第一磅无烟火药”可知，促进了中国近代军事力量的发展，生产了中国自行生产的第一台军舰，第一支步枪等武器；根据材料“翻译馆不仅造就了徐寿、华蘅芳、徐建寅等中国近代第一流的科学家和工程专家，而且成为全面介绍、学习世界先进科学技术的开拓者”可知，在此基础上成立翻译官，培养了一系列人才；根据“中国第一厂”前世的发展历程，可知促进了中国近代化的发展。

（2）根据材料“江南造船厂持续创造了一个又一个‘第一’：建造了中国第一艘潜艇、第一艘护卫舰、第一台万吨水压机、第一艘自行研制的国产万吨轮‘东风’……第一代航天测量船‘远望 1’、‘远望 2’号和首艘大型远洋调查船‘向洋红 10’号等”可知，创造了一个又一个“第一”：第一艘潜艇，第一艘护卫舰等，发展了中国的海上军事力量；根据材料“80 年代后，建造的‘江南巴拿马’型系列散货船，是中国第一个在国际租船市场上挂牌交易的国际著名品牌。建造了中国第一艘液化气（LPG）运输船，开发建造的汽车滚装船、快速集装箱船、大型自卸船、跨海火车渡船等一大批高技术船舶，达到了国际先进水平”可知，制造的产品形成品牌，且达到了国际先进水平，开发建造了一系列高技术船舶；根据材料“江南造船成立江南研究院，开启了高质量发展的新征程”可知，成立研究院，为后续发展提供人才支持。

（3）前世：根据材料“同治四年（1865 年）清政府购买了外国人开设在上海虹口地区的旗记铁厂，并将原有两洋炮局并入，组成新厂”、“研制了中国第一支步枪、第一门钢炮、第一磅无烟火药，炼出了中国第一炉钢”并结合所学知识可知，江南造船厂在正处于内忧外患的中国诞生，承担着救亡图存的使命，在

洋务运动中，它大力发展的中国近代工业，军事力量，有利提升了我国的实力，是近代民族工业企业的优秀代表，开启了我国近代化军事及民族工业与其它诸项文化事业之先河。

今生：根据材料“1949年5月28日，陈毅同志签署上海市军管会第一号命令，正式接管江南造船厂。

江南造船厂持续创造了一个又一个‘第一’”、“江南造船成立江南研究院，开启了高质量发展的新征程”并结合所学知识可知，江南造船厂历史悠久，是研究中国民族企业和工业发展历程的活化石，它创造了中国工业史上的诸多第一，它为中国民族工业的发展作出了巨大贡献，它代表了一种自强不息、求实创新的民族企业精神，并在新时代带领整个造船业开拓创新，走向世界。