

## 崇明区 2020 学年第一学期等级考第一次模拟考试试卷思想政治

考生注意：

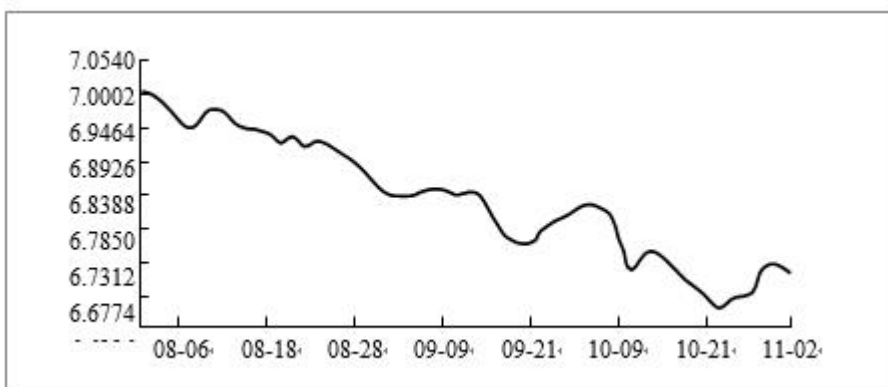
1. 试卷满分 100 分，考试时间 60 分钟。
2. 本考试分设试卷和答题纸。试卷包括三部分，第一部分为选择题，第二部分为材料分析题，第三部分为论述题。
3. 答题前，务必在答题纸上填写学校、班级、姓名、准考证号。作答必须涂或写在答题纸上，在试卷上作答一律不得分。第一部分的作答必须涂在答题纸上相应的区域，第二、三部分的作答必须写在答题纸上与试卷题号对应的位置。

### 一、单项选择题（共 60 分，每题 3 分）

第 1-16 题，选出正确答案得 3 分，错选得 0 分。

1. 中国共产党第十九届五中全会审议通过了《中共中央关于制定国民经济和社会发展第十四个五年规划和二〇三五年远景目标的建议》。这体现了中国共产党（ ）
  - A. 对经济和社会发展进行宏观调控
  - B. 对中国特色社会主义事业的领导
  - C. 履行国家职能，行使了国家权力
2. 2020 年底，英国与欧盟最终就英国“脱欧”后的贸易问题达成协议，结束了数月来围绕捕鱼权和未来商业竞争规则的分歧。这说明（ ）
  - A. 国际组织有利于维护世界和平、缓和国际紧张局势
  - B. 竞争、合作与冲突是国际关系的内容和基本形式
  - C. 维护国家利益是主权国家对外活动的目的和归宿
3. 新修订的《中华人民共和国未成年人保护法》中，有一条立法修改意见由华东政法大学附属中学的学生提出，并被全国人大常委会法工委立法采纳。中学生参与立法（ ）
  - A. 体现了公民是依法治国的主体
  - B. 是非常好的宣传和普法的过程
  - C. 是公民行使立法权的真实体现
4. 经党中央批准、国务院批复，自 2021 年起，将每年 1 月 10 日设立为“中国人民警察节”。设立“中国人民警察节”（ ）

- A. 激发了中国人民解放军维护国家主权和安全的积极性
- B. 是对人民警察队伍为党和人民利益英勇奋斗的充分肯定
- C. 有利于我国司法机关正确行使刑事司法打击犯罪的职能
5. 民族团结进步事业是全社会的事业，需要全社会共同努力，要从增强全社会守护民族团结生命线共同责任的高度，做好民族团结进步创建工作。这是因为（ ）
- A. 民族团结有利于维护祖国的统一和社会稳定
- B. 国家要保障各少数民族的合法的权利和利益
- C. 我国要巩固平等团结互助合作的新型民族关系
6. 习近平总书记在全国劳动模范和先进工作者表彰大会上指出，要把稳就业工作摆在更加突出的位置，不断提高劳动者收入水平，构建多层次社会保障体系，改善劳动安全卫生条件，使广大劳动者共建共享改革发展成果，以更有效的举措不断推进共同富裕。下列有利于实现共同富裕的措施有（ ）
- A. 统一降低城乡最低工资标准
- B. 健全困难群众帮扶工作机制
- C. 禁止使用一次性塑料购物袋
7. 2020 年以来，在促进社会灵活就业方面，在线新经济正发挥积极作用，已催生网店店主、社区团长、短视频制作者等新形态。这些灵活的就业方式，让不少职业欠稳定群体有了收入保障，更让他们拓宽了个人成长边界。对于劳动者而言，这种灵活的就业方式（ ）
- A. 决定了产业发展的趋势
- B. 拓宽了就业增收的渠道
- C. 促进经济发展和社会稳定
8. 2020 年 8 月以来，人民币对美元汇率发生了如下变化（如下图），据此可知（ ）



人民币对美元中间价变化情况

- A. 我国外汇储备的实际购买力会有所上升
- B. 我国外贸企业可以有效规避汇率变动风险
- C. 我国经济复苏加快，人民币资产吸引力增强

9. 天猫曾发布的《95 后玩家剁手力榜单》显示，95 后最“烧钱”的爱好中，潮玩手办排名第一。盲盒是比较流行的潮玩的玩法。据天猫统计，平台上有近 20 万消费者每年花费 2 万余元收集盲盒，购买力最强的消费者一年购买盲盒甚至耗资百万元。在潮玩经济迅速发展的同时，消费者应( )

- A. 紧跟时代潮流，超前消费
- B. 量力而行，进行适度消费
- C. 抓住商机，满足市场需求

10. 某民营信息技术公司研发人员小赵获得技术专利收入 10 万元，这笔收入属于( )

- A. 按技术要素分配
- B. 按劳动要素分配
- C. 按管理要素分配

11. 商务部印发的《全面深化服务贸易创新发展试点总体方案》中提出：在京津冀、长三角、粤港澳大湾区及中西部具备条件的试点地区开展数字人民币试点。关于央行数字货币的理解正确的是( )

- A. 任何个人和商业都可以拒绝使用
- B. 具有国家信用，与法定货币等值
- C. 是与微信、支付宝相同的支付工具

12. 上海自贸区在浦东诞生以来，累计有 300 多项制度创新成果在全国复制推广。上海自贸区试点经验复制推广的哲学依据是( )

- A. 要一切以时间、地点、条件为转移
- B. 新事物要经历一个由弱到强的过程
- C. 矛盾的普遍性和特殊性是辩证统一的

13. 2020 年 12 月 17 日，嫦娥五号返回器携带月球样品安全着陆，探月工程嫦娥五号任务取得圆满成功。中国探月工程“绕、落、回”三步走规划如期完成，这突出体现了( )

- A. 实践具有自觉能动性
- B. 科学实验具有探索性
- C. 实践具有客观物质性

14. 习近平在纪念中国人民志愿军抗美援朝出国作战 70 周年大会上讲话指出，伟大抗美援朝精神跨越时空、历久弥新，必须永续传承、历代发扬。从哲学上看，要发扬伟大抗美援朝精神，是因为( )

- A. 人的意识具有直接现实性的特点
- B. 意识是实践活动的目的和归宿
- C. 意识影响实践活动的方向和结果

15. 全国第一所公办免费女子高中，12 年累计让 1800 多名大山女孩考入大学……，这个大山里的教育奇迹，是 63 岁的华坪女子高级中学校长张桂梅，坚守滇西深贫山区教育事业数十年拼出来的，她十几年来一直住学生宿舍，用最深沉的爱点亮了无数大山女孩的人生梦想。2020 年她被中宣部授予时代楷模的光荣称号。张桂梅的事迹启示我们（ ）

- A. 劳动和奉献是实现人生价值的必由之路
- B. 人的价值选择决定着价值观和价值判断
- C. 社会的客观条件是实现人生价值的关键

16. “如果偶然性不起任何作用的话，那么世界历史就会带有非常神秘的性质。”该观点（ ）

- A. 认为偶然性与必然性辩证统一
- B. 承认了必然性而否认了偶然性
- C. 承认了偶然性而否认了必然性

**第 17~20 题，选出最佳选项得 3 分，选出次佳选项得 2 分，错选得 0 分。**

17. 党的十九届五中全会明确提出要加快构建以国内大循环为主体、国内国际双循环相互促进的新发展格局，并作出重大工作部署。构建新发展格局需要（ ）

- A. 坚持从实际出发，让国内循环封闭运行
- B. 统筹考虑优化组合，内外联动协同发展
- C. 重视关键部分，充分发挥内循环的作用

18. 浦东开发开放 30 年来，生产总值从 1990 年的 60 亿元跃升到 2019 年的 1.27 万亿元，基本形成以现代服务业为主体、战略性新兴产业为引领、先进制造业为支撑的现代产业体系；2019 年城乡居民人均可支配收入达到 71647 元，人均预期寿命从 1993 年的 76.10 岁提高到 84.46 岁，城镇人均住房建筑面积从 1993 年的 15 平方米提高到 42 平方米。上述材料充分说明，30 年来浦东（ ）

- A. 勇当新时代改革开放排头兵
- B. 人民的生活质量整体性跃升
- C. 实现了经济和社会的全面发展

19. 十三届全国人大常委会第二十四次会议表决通过了新修订的预防未成年人犯罪法、长江保护法、刑法修

正案（十一）、新修订的国防法；决定任命陈小江为国家民族事务委员会主任、唐仁健为农业农村部部长、王文涛为商务部部长。习近平签署主席令。对上述材料概括最全面的是（ ）

- A. 全国人大常委会行使了立法权、表决权
- B. 人民代表大会制度实行民主集中制原则
- C. 全国人大常委会行使全国人大的部分职权

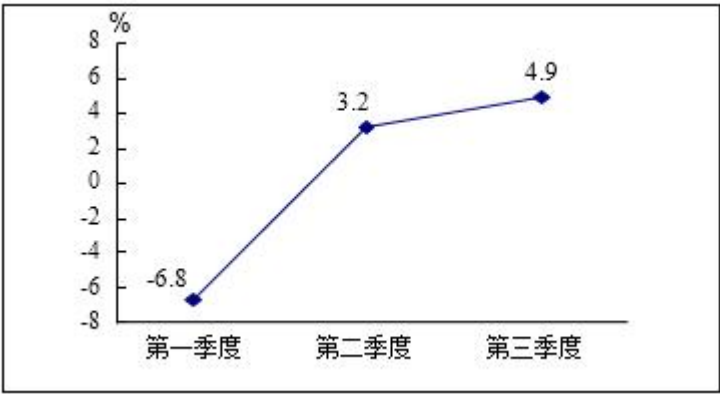
20. 当前，部分居民小区电瓶车集中充电点因设施布局不合理，日常维护管理不到位，缺乏消防设施设备，难以满足居民安全充电需求，因此部分集中充电点频频遇冷，不少居民仍执意在楼道充电或飞线充电，导致安全事故频发。作为小区居民应该（ ）

- A. 正确行使自身的权利，履行自身的义务
- B. 向居委会提出建议，直接参与民主决策
- C. 通过政府直接参与管理居民事务的权利

二、材料分析题（共 20 分）

21. 面对新冠肺炎疫情巨大冲击和复杂严峻的国内外环境，在以习近平同志为核心的党中央坚强领导下，各地区各部门科学统筹疫情防控和经济社会发展，2020 年前三季度经济增速发生如下变化：

2020 年前三季度我国国内生产总值增长速度（季度同比）



注：我国是 2020 年世界上唯一一个经济实现正增长的国家

（1）2020 年我国各级党委和政府协同发力、合力攻坚，我国近一亿贫困人口成功实现脱贫，如期完成新时代脱贫攻坚目标任务。面对上述材料，有人感叹，在极不平凡一年里，党和政府为实现人民利益不遗余力。请结合材料，运用党的领导和政府的相关知识，分析说明该观点。

（2）当前我国如期完成了脱贫攻坚目标任务，但发展不平衡不充分问题仍然突出，我国的减贫工作仍要深入贯彻落实党的十九届五中全会精神，巩固拓展脱贫攻坚成果。要健全防止返贫动态监测和帮扶机制，对

易返贫致贫人口实施常态化监测，切实防止返贫致贫；要扎实推进工作衔接，实现工作举措从脱贫攻坚逐步向乡村振兴转换，实现巩固拓展脱贫攻坚成果同乡村振兴有效衔接。“实事求是”是马克思主义的精髓。我国减贫工作的举措如何体现这一方法论要求，请结合材料，运用链接中的知识分析说明。

（链接：要做到实事求是就要尊重规律，发挥主观能动性认识和利用规律。一切以条件为转移。）

### 三、论述题（20 分）

22. 党的十八届五中全会提出了创新、协调、绿色、开放、共享的新发展理念，我国各地积极贯彻落实新发展理念。

#### 小吃业变身大产业

二十多年前的某县小吃大都是养家糊口的小作坊、夫妻店，环境相对简陋。靠着“一元进店，两元吃饱”的宣传语，该县小吃悄无声息地占领了中国的街头巷尾。

低价定位是该县小吃成功的核心原因，但是门店迅速增长，也存在真假门店混杂、品质良莠不齐的问题。为此，该县打出了一套“组合拳”：为小吃业主提供专业技能培训，并指导他们如何找店、开店；在小吃业主相对比较集中的城市，设立驻外联络处，帮助他们解决实际困难。

2008 年，该县小吃集团正式成立，按照现代餐饮经营管理模式，提出“标准化、连锁化”，集团推出了统一的集体商标，为各类小吃制定严格的用料以及制作规范。这些标准化产品可以通过该县小吃集团打造的供应链大数据系统，及时配送到各地有需要的门店之中。

目前，该县小吃在全国门店超过 8.8 万家，年营业额超过 500 亿元，不仅成为当地的支柱产业，还遍布全球 62 个国家和地区。

结合材料，从市场经济和生产要素的角度论述，小吃业如何做大做强。

要求：

- （1）运用相关知识概括某县小吃业的两个特征，联系论题，形成总论点。
- （2）理论论证中论题、总论点、分论点内在逻辑一致，论述逻辑较准确、连贯、完整。
- （3）概括地引用链接材料进行事实论证，以充分支持分论点。
- （4）准确使用思想政治学科术语。
- （5）建议论述篇幅限制在 400 字左右。



## 崇明区 2020 学年第一学期等级考第一次模拟考试试卷思想政治

考生注意：

1. 试卷满分 100 分，考试时间 60 分钟。
2. 本考试分设试卷和答题纸。试卷包括三部分，第一部分为选择题，第二部分为材料分析题，第三部分为论述题。
3. 答题前，务必在答题纸上填写学校、班级、姓名、准考证号。作答必须涂或写在答题纸上，在试卷上作答一律不得分。第一部分的作答必须涂在答题纸上相应的区域，第二、三部分的作答必须写在答题纸上与试卷题号对应的位置。

### 一、单项选择题（共 60 分，每题 3 分）

第 1-16 题，选出正确答案得 3 分，错选得 0 分。

1. 中国共产党第十九届五中全会审议通过了《中共中央关于制定国民经济和社会发展第十四个五年规划和二〇三五年远景目标的建议》。这体现了中国共产党（ ）
- A. 对经济和社会发展进行宏观调控
  - B. 对中国特色社会主义事业的领导
  - C. 履行国家职能，行使了国家权力

【答案】B

【解析】

【分析】

【详解】AC：选项 AC 均是政府的行为，不符题意，不选。

B：中国共产党第十九届五中全会审议通过了《中共中央关于制定国民经济和社会发展第十四个五年规划和二〇三五年远景目标的建议》。这体现了中国共产党中国特色社会主义事业的领导，故 B 入选。

故本题选 B。

2. 2020 年底，英国与欧盟最终就英国“脱欧”后的贸易问题达成协议，结束了数月来围绕捕鱼权和未来商业竞争规则的分歧。这说明（ ）
- A. 国际组织有利于维护世界和平、缓和国际紧张局势
  - B. 竞争、合作与冲突是国际关系的内容和基本形式

C. 维护国家利益是主权国家对外活动的目的和归宿

【答案】C

【解析】

【分析】

【详解】C：2020 年底，英国与欧盟最终就英国“脱欧”后的贸易问题达成协议，结束了数月来围绕捕鱼权和未来商业竞争规则的分歧。这说明国家利益是国际关系的决定因素，维护国家利益是主权国家对外活动的目的和归宿，C 符合题意。

A：对于国际组织的作用要具体分析，区别对待，A 错误。

B：竞争、合作与冲突是国际关系基本形式，而国际关系的内容是多方面的，有政治关系、经济关系、文化关系、军事关系等，B 错误。

故本题选 C。

3. 新修订的《中华人民共和国未成年人保护法》中，有一条立法修改意见由华东政法大学附属中学的学生提出，并被全国人大常委会法工委立法采纳。中学生参与立法（ ）

- A. 体现了公民是依法治国的主体
- B. 是非常好的宣传和普法的过程
- C. 是公民行使立法权的真实体现

【答案】B

【解析】

【分析】

【详解】B：中学生参与立法是非常好的宣传和普法的过程，故 B 入选。

A：选项 A 与题意不符，不选。

C：人民代表大会有立法权，公民没有立法权，故 C 错误。

故本题选 B。

4. 经党中央批准、国务院批复，自 2021 年起，将每年 1 月 10 日设立为“中国人民警察节”。设立“中国人民警察节”（ ）

- A. 激发了中国人民解放军维护国家主权和安全的积极性
- B. 是对人民警察队伍为党和人民利益英勇奋斗的充分肯定
- C. 有利于我国司法机关正确行使刑事司法打击犯罪的职能



【答案】B

【解析】

【分析】

【详解】B：设立“中国人民警察节”是对人民警察队伍为党和人民利益英勇奋斗的充分肯定，故B入选。

AC：设立“中国人民警察节”与中国人民解放军以及司法机关无关，不选。

故本题选B。

5. 民族团结进步事业是全社会的事业，需要全社会共同努力，要从增强全社会守护民族团结生命线共同责任的高度，做好民族团结进步创建工作。这是因为（ ）

- A. 民族团结有利于维护祖国的统一和社会稳定
- B. 国家要保障各少数民族的合法的权利和利益
- C. 我国要巩固平等团结互助合作的新型民族关系

【答案】A

【解析】

【详解】A：依题意知，民族团结进步事业是全社会的事业，需要全社会共同努力，要从增强全社会守护民族团结生命线共同责任的高度，做好民族团结进步创建工作。说明了民族团结对于国家的统一，社会的发展和进步具有重要作用，维护民族团结有利于维护祖国的统一和社会稳定。A正确。

B：材料没有涉及“少数民族的合法的权利和利益”。B不选。

C：材料只强调民族团结，没有涉及民族平等。C不选。

故本题选A。

6. 习近平总书记在全国劳动模范和先进工作者表彰大会上指出，要把稳就业工作摆在更加突出的位置，不断提高劳动者收入水平，构建多层次社会保障体系，改善劳动安全卫生条件，使广大劳动者共建共享改革发展成果，以更有效的举措不断推进共同富裕。下列有利于实现共同富裕的措施有（ ）

- A. 统一降低城乡最低工资标准
- B. 健全困难群众帮扶工作机制
- C. 禁止使用一次性塑料购物袋

【答案】B

【解析】

【分析】

【详解】A：统一降低城乡最低工资标准与事实不符，应提高最低工资标准，故 A 无。

B：健全困难群众帮扶工作机制有利于帮扶困难群众实现共同富裕，故 B 入选。

C：禁止使用一次性塑料购物袋与实现共同富裕无关，不选。

故本题选 B。

7. 2020 年以来，在促进社会灵活就业方面，在线新经济正发挥积极作用，已催生网店店主、社区团长、短视频制作者等新形态。这些灵活的就业方式，让不少职业欠稳定群体有了收入保障，更让他们拓宽了个人成长边界。对于劳动者而言，这种灵活的就业方式（ ）

A. 决定了产业发展的趋势

B. 拓宽了就业增收的渠道

C. 促进经济发展和社会稳定

【答案】B

【解析】

【分析】

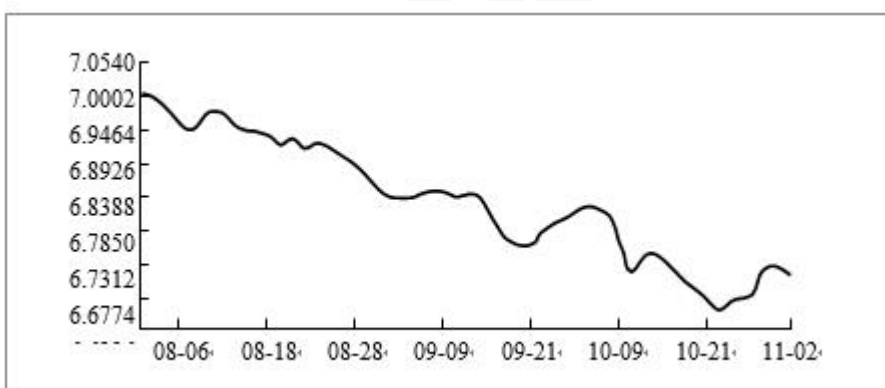
【详解】A：灵活的就业方式影响产业发展的趋势，但不起决定作用，故 A 错误。

B：依据题意，对于劳动者而言，这种灵活的就业方式拓宽了就业增收的渠道，故 B 入选。

C：促进经济发展和社会稳定是对社会而言的意义，不是对劳动者的意义，C 不选。

故本题选 B。

8. 2020 年 8 月以来，人民币对美元汇率发生了如下变化（如下图），据此可知（ ）



人民币对美元中间价变化情况

A. 我国外汇储备的实际购买力会有所上升

B. 我国外贸企业可以有效规避汇率变动风险

C. 我国经济复苏加快，人民币资产吸引力增强

【答案】C

【解析】

【分析】

【详解】由图示可知，同样的美元兑换的人民币越来越少，这表明人民币升值，美元贬值。

A：人民币升值，美元贬值，我国外汇储备的实际购买力会有所下降，故 A 不选。

B：我国外贸企业并不能规避汇率变动风险，故 B 不选。

C：我国经济复苏加快，人民币资产吸引力增强，带来人民币升值，故 C 入选。

故本题 C。

9. 天猫曾发布的《95 后玩家剁手力榜单》显示，95 后最“烧钱”的爱好中，潮玩手办排名第一。盲盒是比较流行的潮玩的玩法。据天猫统计，平台上有近 20 万消费者每年花费 2 万余元收集盲盒，购买力最强的消费者一年购买盲盒甚至耗资百万元。在潮玩经济迅速发展的同时，消费者应（ ）

A. 紧跟时代潮流，超前消费

B. 量力而行，进行适度消费

C. 抓住商机，满足市场需求

【答案】B

【解析】

【分析】

【详解】A：超前消费的说法错误，应适度消费，故 A 错误。

B：平台上有近 20 万消费者每年花费 2 万余元收集盲盒，购买力最强的消费者一年购买盲盒甚至耗资百万元。这表明在潮玩经济迅速发展的同时，消费者应量力而行，进行适度消费，故 B 入选。

C：抓住商机，满足市场需求是企业的行为，故 C 不选。

故本题选 B。

10. 某民营信息技术公司研发人员小赵获得技术专利收入 10 万元，这笔收入属于（ ）

A. 按技术要素分配

B. 按劳动要素分配

C. 按管理要素分配

【答案】A

【解析】

【分析】

【详解】A：凭借专利获得的收入属于按生产要素分配中的按技术要素分配，故 A 入选。

BC：选项 BC 均与题意不选，不选。

故本题选 A。

11. 商务部印发的《全面深化服务贸易创新发展试点总体方案》中提出：在京津冀、长三角、粤港澳大湾区及中西部具备条件的试点地区开展数字人民币试点。关于央行数字货币的理解正确的是( )

- A. 任何个人和商业都可以拒绝使用
- B. 具有国家信用，与法定货币等值
- C. 是与微信、支付宝相同的支付工具

【答案】B

【解析】

【分析】

【详解】B：央行数字货币是央行发行的法定货币，是人民币的数字化，具有国家信用，与法定货币等值，故 B 入选。

A：央行数字货币是央行发行的法定货币，任何个人和商业都不可以拒绝使用，故 A 不选。

C：央行数字货币是人民币的数字化，是货币形态的变化，与微信、支付宝这些支付工具不同，故 C 不选。故本题选 B。

12. 上海自贸区在浦东诞生以来，累计有 300 多项制度创新成果在全国复制推广。上海自贸区试点经验复制推广的哲学依据是( )

- A. 要一切以时间、地点、条件为转移
- B. 新事物要经历一个由弱到强的过程
- C. 矛盾的普遍性和特殊性是辩证统一的

【答案】C

【解析】

【分析】

【详解】C：上海自贸区试点经验复制推广的哲学依据是矛盾的普遍性和特殊性是辩证统一的，故 C 入选。

AB：材料强调的是共性和个性的统一，选项 AB 与题意不符，不选。

故本题选 C。

13. 2020 年 12 月 17 日，嫦娥五号返回器携带月球样品安全着陆，探月工程嫦娥五号任务取得圆满成功。中国探月工程“绕、落、回”三步走规划如期完成，这突出体现了( )

- A. 实践具有自觉能动性
- B. 科学实验具有探索性
- C. 实践具有客观物质性

【答案】A

【解析】

【分析】

【详解】ABC：中国探月工程“绕、落、回”三步走规划如期完成，这表明实践具有有目的、有意识的活动，A项符合题意，入选；B、C项与题意不符，排除。  
故本题选A。

14. 习近平在纪念中国人民志愿军抗美援朝出国作战70周年大会上讲话指出，伟大抗美援朝精神跨越时空、历久弥新，必须永续传承、历代发扬。从哲学上看，要发扬伟大抗美援朝精神，是因为（ ）

- A. 人的意识具有直接现实性的特点
- B. 意识是实践活动的目的和归宿
- C. 意识影响实践活动的方向和结果

【答案】C

【解析】

【分析】

【详解】A：实践具有直接现实性的特点，故A错误。  
B：实践是认识的目的和归宿，故B错误。  
C：从哲学上看，抗美援朝精神属于意识，要发扬伟大抗美援朝精神，是因为意识对改造客观世界具有指导作用，影响实践活动的方向和结果，故C入选。  
故本题选C。

15. 全国第一所公办免费女子高中，12年累计让1800多名大山女孩考入大学……，这个大山里的教育奇迹，是63岁的华坪女子高级中学校长张桂梅，坚守滇西深贫山区教育事业数十年拼出来的，她十几年来一直住学生宿舍，用最深沉的爱点亮了无数大山女孩的人生梦想。2020年她被中宣部授予时代楷模的光荣称号。张桂梅的事迹启示我们（ ）

- A. 劳动和奉献是实现人生价值的必由之路
- B. 人的价值选择决定着价值观和价值判断
- C. 社会的客观条件是实现人生价值的关键

【答案】A

【解析】

【分析】

【详解】A：张桂梅坚守滇西深贫山区教育事业数十年拼出来的，她十几年来一直住学生宿舍，用最深沉的爱点亮了无数大山女孩的人生梦想，这表明劳动和奉献是实现人生价值的必由之路，故 A 入选。

B：价值判断是价值选择的基础，价值选择决定着价值观和价值判断的说法错误，故 B 错误。

C：社会的客观条件是实现人生价值的前提，故 C 错误。

故本题选 A。

16. “如果偶然性不起任何作用的话，那么世界历史就会带有非常神秘的性质。”该观点( )

A. 认为偶然性与必然性辩证统一

B. 承认了必然性而否认了偶然性

C. 承认了偶然性而否认了必然性

【答案】A

【解析】

【分析】

【详解】A：材料大意为，马克思认为，除了必然性之外，偶然性对世界历史的发展也具有重要作用。因此，马克思认为必然性和偶然性都对历史发展是必不可少的，历史的发展是必然性和偶然性的统一，故 A 入选。

BC：材料中观点并未否认偶然性或必然性，故 BC 错误。

故本题选 A。

**第 17~20 题，选出最佳选项得 3 分，选出次佳选项得 2 分，错选得 0 分。**

17. 党的十九届五中全会明确提出要加快构建以国内大循环为主体、国内国际双循环相互促进的新发展格局，

并作出重大工作部署。构建新发展格局需要( )

A. 坚持从实际出发，让国内循环封闭运行

B. 统筹考虑优化组合，内外联动协同发展

C. 重视关键部分，充分发挥内循环的作用

【答案】BC

【解析】

【分析】

【详解】B：构建以国内大循环为主体、国内国际双循环相互促进的新发展格局，这体现了统筹考虑优化组合，内外联动协同发展，故 B 是最佳选项、

C：加快构建以国内大循环为主体体现了重视关键部分，充分发挥内循环的作用，故 C 是次佳选项。

A：让国内循环封闭运行的说法错误，故 A 错误。

故本题 B 是最佳，C 是次佳。

18. 浦东开发开放 30 年来，生产总值从 1990 年的 60 亿元跃升到 2019 年的 1.27 万亿元，基本形成以现代服务业为主体、战略性新兴产业为引领、先进制造业为支撑的现代产业体系；2019 年城乡居民人均可支配收入达到 71647 元，人均预期寿命从 1993 年的 76.10 岁提高到 84.46 岁，城镇人均住房建筑面积从 1993 年的 15 平方米提高到 42 平方米。上述材料充分说明，30 年来浦东（ ）

- A. 勇当新时代改革开放排头兵
- B. 人民的生活质量整体性跃升
- C. 实现了经济和社会的全面发展

【答案】CB

【解析】

【分析】

【详解】C：依据题意，浦东开发开放 30 年来，生产总值跃升，现代产业体系基本形成，城乡居民收入增长、人均预期寿命增长、城镇人均住房建筑面积增长，这表明 30 年来浦东实现了经济和社会的全面发展，故 C 是最佳选项。

B：浦东开发开放 30 年来，城乡居民收入增长、人均预期寿命增长、城镇人均住房建筑面积增长，这表明 30 年来浦东实现了人民的生活质量整体性跃升，故 B 是次佳选项。

A：选项 A 与题意不符，不选。

故本题 C 是最佳，B 是次佳。

19. 十三届全国人大常委会第二十四次会议表决通过了新修订的预防未成年人犯罪法、长江保护法、刑法修正案（十一）、新修订的国防法；决定任命陈小江为国家民族事务委员会主任、唐仁健为农业农村部部长、王文涛为商务部部长。习近平签署主席令。对上述材料概括最全面的是（ ）

- A. 全国人大常委会行使了立法权、表决权
- B. 人民代表大会制度实行民主集中制原则
- C. 全国人大常委会行使全国人大的部分职权

【答案】BC



【解析】

【分析】

【详解】A：全国人大常委会没有表决权，表决权时人大代表的权利，故 A 错误。

B：十三届全国人大常委会第二十四次会议表决通过有关法律和重大决定，习近平签署主席令，这表明人民代表大会制度实行民主集中制原则，故 B 是最佳选项。

C：十三届全国人大常委会第二十四次会议表决通过有关法律和重大决定，这表明全国人大常委会行使全国人大的部分职权，故 C 是次佳选项。

故本题 B 是最佳，C 是次佳。

20. 当前，部分居民小区电瓶车集中充电点因设施布局不合理，日常维护管理不到位，缺乏消防设施设备，难以满足居民安全充电需求，因此部分集中充电点频频遇冷，不少居民仍执意在楼道充电或飞线充电，导致安全事故频发。作为小区居民应该( )

- A. 正确行使自身的权利，履行自身的义务
- B. 向居委会提出建议，直接参与民主决策
- C. 通过政府直接参与管理居民事务的权利

【答案】AB

【解析】

【分析】

【详解】A：不少居民仍执意在楼道充电或飞线充电，导致安全事故频发。作为小区居民应该正确行使自身的权利，履行自身的义务，故 A 是最佳选项。

B：部分居民小区电瓶车集中充电点因设施布局不合理，日常维护管理不到位，缺乏消防设施设备，难以满足居民安全充电需求，作为小区居民应该向居委会提出建议，直接参与民主决策，故 B 是次佳选项。

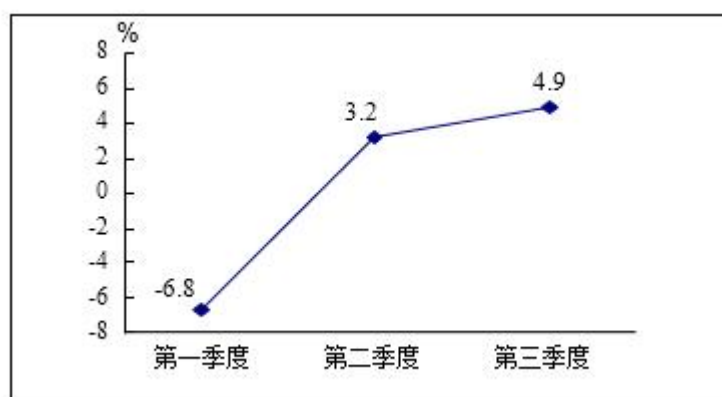
C：材料并未涉及民主管管理，故 C 不选。

故本题 A 是最佳，B 是次佳。

## 二、材料分析题（共 20 分）

21. 面对新冠肺炎疫情巨大冲击和复杂严峻的国内外环境，在以习近平同志为核心的党中央坚强领导下，各地区各部门科学统筹疫情防控和经济社会发展，2020 年前三季度经济增速发生如下变化：

2020 年前三季度我国国内生产总值增长速度（季度同比）



注：我国是 2020 年世界上唯一一个经济实现正增长的国家

(1) 2020 年我国各级党委和政府协同发力、合力攻坚，我国近一亿贫困人口成功实现脱贫，如期完成新时代脱贫攻坚目标任务。面对上述材料，有人感叹，在极不平凡一年里，党和政府为实现人民利益不遗余力。请结合材料，运用党的领导和政府的相关知识，分析说明该观点。

(2) 当前我国如期完成了脱贫攻坚目标任务，但发展不平衡不充分问题仍然突出，我国的减贫工作仍要深入贯彻落实党的十九届五中全会精神，巩固拓展脱贫攻坚成果。要健全防止返贫动态监测和帮扶机制，对易返贫致贫人口实施常态化监测，切实防止返贫致贫；要扎实推进工作衔接，实现工作举措从脱贫攻坚逐步向乡村振兴转换，实现巩固拓展脱贫攻坚成果同乡村振兴有效衔接。“实事求是”是马克思主义的精髓。我国减贫工作的举措如何体现这一方法论要求，请结合材料，运用链接中的知识分析说明。

(链接：要做到实事求是就要尊重规律，发挥主观能动性认识和利用规律。一切以条件为转移。)

**【答案】**(1) 面对 2020 年的诸多挑战，中国共产党从中国人民的根本利益出发，制定正确的路线、方针和政策，并组织号召各级党委贯彻落实，充分发挥其坚强的政治领导、组织领导的职能，坚持了全心全意为人民服务的宗旨，从而使 2020 年前三季度我国经济增长速度由负转正，成为 2020 年世界上唯一一个经济实现正增长的国家，同时我国如期完成脱贫攻坚目标。这为满足人民美好生活需要提供了重要保障，最大程度上实现了人民的利益。我国政府是党领导下的人民政府，是为人民服务的政府。面对 2020 年的诸多挑战，我国政府在中国共产党的领导下，积极履行组织和领导社会主义现代化建设、协调人民内部的关系和利益等国家职能，与各级党委协同发力，合力攻坚，我国实现了 2020 年经济增速由负转正及完成了脱贫攻坚的目标，这为人民的美好生活创造了良好的经济和社会条件，为满足人民美好生活需要提供了重要保障，最大程度上实现了人民的利益。

(2) 我国减贫工作的做法符合实事求是的要求。2020 年我国脱贫攻坚工作已经取得阶段性胜利，但仍存在城乡发展不平衡不充分的问题，仍要持续推进减贫工作。党和国家充分认识把握了我国减贫现状及规律，提出了“巩固拓展脱贫攻坚成果、乡村振兴战略”的举措，并根据我国减贫现状及减贫工作的规律，发挥主观能动性，明确了减贫工作的具体做法和目标，这是尊重规律，按规律办事的具体体现。在落实减贫工

作举措时，必须充分发挥主观能动性，一切以条件为转移。对于存在“易返贫致贫”现状和条件的人口及地区，要健全防止返贫动态监测和帮扶机制，实施常态化监测，切实防止返贫致贫，巩固脱贫攻坚成果。对于脱贫稳定的地区和人口，要不断拓展脱贫攻坚成果，扶贫工作举措从脱贫攻坚向乡村振兴转变，推动脱贫地区乡村全面振兴。这是从客观存在的事实出发，综合分析不同地区的客观现状和条件，根据不同条件采取不同措施实事求是的具体体现。

### 【解析】

### 【分析】

本题以面对新冠肺炎疫情巨大冲击和复杂严峻的国内外环境，在以习近平同志为核心的党中央坚强领导下，各地区各部门科学统筹疫情防控和经济社会发展为背景材料，从政治生活和哲学生活角度设置有关问题，考查考生解读材料，获取信息、调动和运用知识、描述和阐释事物的能力。

**【详解】**（1）本题要求结合材料，运用党的领导和政府的相关知识，分析说明“在极不平凡一年里，党和政府为实现人民利益不遗余力”这一观点。本题属于分析说明类试题，题目限定党的领导和政府的相关知识。根据材料“面对新冠肺炎疫情巨大冲击和复杂严峻的国内外环境，在以习近平同志为核心的党中央坚强领导下，各地区各部门科学统筹疫情防控和经济社会发展，2020年前三季度我国国内生产总值增长，我国是2020年世界上唯一一个经济实现正增长的国家”，可从党坚持政治领导、组织领导的职能，坚持了全心全意为人民服务的宗旨，我国政府是党领导下的人民政府，是为人民服务的政府。面对2020年的诸多挑战，我国政府在共产党的领导下，积极履行组织和领导社会主义现代化建设、协调人民内部的关系和利益等国家职能的角度分析。

（2）本题要求结合材料，运用链接中的知识分析说明。根据材料“当前我国如期完成了脱贫攻坚目标任务，但发展不平衡不充分问题仍然突出，我国的减贫工作仍要深入贯彻落实党的十九届五中全会精神，巩固拓展脱贫攻坚成果。要健全防止返贫动态监测和帮扶机制，对易返贫致贫人口实施常态化监测，切实防止返贫致贫；要扎实推进工作衔接，实现工作举措从脱贫攻坚逐步向乡村振兴转换，实现巩固拓展脱贫攻坚成果同乡村振兴有效衔接”，可从党和国家充分认识把握了我国减贫现状及规律，尊重规律，按规律办事，发挥主观能动性认识和利用规律的角度分析；根据材料“要健全防止返贫动态监测和帮扶机制，对易返贫致贫人口实施常态化监测，切实防止返贫致贫；要扎实推进工作衔接，实现工作举措从脱贫攻坚逐步向乡村振兴转换，实现巩固拓展脱贫攻坚成果同乡村振兴有效衔接”，可从必须充分发挥主观能动性，一切以条件为转移，做到实事求是的角度分析。

### 【点睛】说明类主观题解法

#### 1. 题型特点

说明类主观题一般来说，其设问形式主要有两种：

(1)运用某原理分析说明某一说法(做法)。

(2)说明某现象的原因、意义、做法的正确性或危害、应采取的措施。

## 2. 解题方法

第一步：仔细审题，明确题意，弄清命题者的意图。

要做到“两审”：审材料和审问题。一般先审问题后审材料，带着问题审材料。审问题，就是要弄清问题的中心，看清问题的特殊要求(如要求说明原因、意义或做法的正确性)，从而弄准答题应当运用的课本知识。审材料，先粗读再细读，尽快抓住它的关键词句、主要观点和中心思想。

第二步：根据材料内容对接教材知识，落实知识点内容。

带着问题读材料，找出问题、材料、教材三者之间的相关点，这是答题的关键。

第三步：理清思路，组织答案。

答案应具有针对性，切忌“攻”其一点不及其余。如涉及多个知识点，要考虑其主次与先后，用序号标明，做到条理清楚、层次分明、语言规范。切不可答非所问，偏离题意。

对于分析说明某一说法(做法)的题目，要从是什么、为什么、产生的影响、正确的做法(错误的危害)角度进行分析。对于有特殊要求的题目(如要求说明产生某现象的原因、意义、应采取的措施)，还要在答案组织中使用凸显特殊要求的词语，可以参见原因类、意义类、措施类题目的解题方法。

## 三、论述题(20分)

22. 党的十八届五中全会提出了创新、协调、绿色、开放、共享的新发展理念，我国各地积极贯彻落实新发展理念。

### 小吃业变身大产业

二十多年前的某县小吃大都是养家糊口的小作坊、夫妻店，环境相对简陋。靠着“一元进店，两元吃饱”的宣传语，该县小吃悄无声息地占领了中国的街头巷尾。

低价定位是该县小吃成功的核心原因，但是门店迅速增长，也存在真假门店混杂、品质良莠不齐的问题。为此，该县打出了一套“组合拳”：为小吃业主提供专业技能培训，并指导他们如何找店、开店；在小吃业主相对比较集中的城市，设立驻外联络处，帮助他们解决实际困难。

2008年，该县小吃集团正式成立，按照现代餐饮经营管理模式，提出“标准化、连锁化”，集团推出了统一的集体商标，为各类小吃制定严格的用料以及制作规范。这些标准化产品可以通过该县小吃集团打造的供应链大数据系统，及时配送到各地有需要的门店之中。

目前，该县小吃在全国门店超过8.8万家，年营业额超过500亿元，不仅成为当地的支柱产业，还遍布全球62个国家和地区。

结合材料，从市场经济和生产要素的角度论述，小吃业如何做大做强。

要求：

- (1) 运用相关知识概括某县小吃业的两个特征，联系论题，形成总论点。
- (2) 理论论证中论题、总论点、分论点内在逻辑一致，论述逻辑较准确、连贯、完整。
- (3) 概括地引用链接材料进行事实论证，以充分支持分论点。
- (4) 准确使用思想政治学科术语。
- (5) 建议论述篇幅限制在 400 字左右。

**【答案】**(1) 小吃业要具有先进的经营理念和核心竞争力才能做大做强。

(2) 小吃业要充分利用市场机制，具备核心竞争力，才能不断做大做强。小吃业要根据市场需求，不断调整自身的发展策略，努力在小吃产品的质量、价格、服务、品牌等方面创造优势，生产出物美价廉、适销对路的商品，具有核心竞争力，才能在竞争中立于不败之地，不断做大做强。该县小吃业不断提高小吃产品的质量，生产标准化产品，并通过大数据系统，及时配送到需要的门店，不仅成为当地的支柱产业，还遍布全球 62 个国家和地区。小吃业要加强经营管理，具备先进的经营理念，才能不断做大做强。

(3) 小吃业在政府的支持下，采用现代经营管理模式，不断优化经营管理，实现了规模化、标准化生产，使小吃产品更优质、安全，扩大了市场份额，提高了知名度，不断做大做强。该县小吃业在政府的扶持和帮助下，按照现代餐饮经营管理模式进行生产经营，在全国有超过 8.8 万家门店，年营业额超过 500 亿元，成为当地的支柱产业，还遍布全球 62 个国家和地区。

(4) 小吃业要遵守市场规则和具有先进的经营理念才能做大做强。小吃业要遵守市场规则，良性竞争，才能做大做强。市场经济不是万能的，存在自发性和盲目性，需要国家宏观调控。小吃业在国家的宏观调控提供的服务帮助下，经营者不断提高职业技能和素养，树立正确的竞争观念。企业遵守市场秩序，良性竞争，提高经济效益，才能不断做大做强。面对真假门店混杂，政府为小吃业主提供培训和设立办事处，小吃业在政府的扶持引导下进行良性竞争，才能不断做大做强。

(5) 小吃业要加强经营管理，具备先进的经营理念，才能不断做大做强。小吃业在政府的支持下，采用现代经营管理模式，不断优化经营管理，实现了规模化、标准化生产，使小吃产品更优质、安全，扩大了市场份额，提高了知名度，不断做大做强。该县小吃业在政府的资金扶持和业务指导的帮助下，按照现代餐饮经营管理模式进行生产经营，在全国有超过 8.8 万家门店，年营业额超过 500 亿元，成为当地的支柱产业，还遍布全球 62 个国家和地区。

**【解析】**

**【分析】**

本题以小吃业变身大产业为背景材料，从经济生活角度设置有关问题，考查考生解读材料，获取信息、调动和运用知识、描述和阐释事